

1. Online Patta Transfer applications of involving subdivisions type have to be closed within

- (A) 90 days (B) 60 days  
(C) 30 days (D) 15 days

இணையதள உட்பிரிவு பட்டா மாறுதல் மனுவை எத்தனை நாட்களுக்குள் முடிவு செய்ய வேண்டும்?

- (A) 90 நாட்கள் (B) 60 நாட்கள்  
(C) 30 நாட்கள் (D) 15 நாட்கள்

2. What is the use of cross staff?

- (A) For measuring boundaries  
(B) For planting stones  
(C) To mark the surveyed field  
(D) To take offset points

நேர்கோணக்கட்டையின் உபயோகம் என்ன?

- (A) எல்லைகளை அளவு செய்ய  
(B) கற்கள் நடுவதற்கு  
(C) அளந்த இடத்தில் குறியீடு செய்ய  
(D) வளைவுப் புள்ளிகளுக்கு செங்குத்தளவு எடுக்க

3. Account No. 3 is maintained by Village Administrative Officer is for registering

- (A) Cultivation particulars  
(B) Patta owner particulars  
(C) Patta transfer particulars  
(D) Tax collection particulars

கிராம நிருவாக அலுவலரால் பராமரிக்கப்படும் 3ம் எண் கணக்குகளில் எவை பதிவு செய்யப்படுகிறது

- (A) சாகுபடி விவரம்  
(B) பட்டாதாரர்கள் விவரம்  
(C) பட்டாமாறுதல் குறித்த விவரம்  
(D) வரி வசூல் விவரம்

4. 100 links in a chain equals to

- (A) 25 m (B) 20 m  
(C) 15 m (D) 10 m

சங்கிலியில் 100 லிங்க்ஸ் எத்தனை மீட்டர்

- (A) 25 (B) 20  
(C) 15 (D) 10

5. 1 Hectare equals to \_\_\_\_\_ acre.
- (A) 2.5 acres (B) 2 acres  
(C) 2.48 acres (D) 2.47 acres

1 ஹெக்டேர் எத்தனை ஏக்கர்

- (A) 2.5 acres (B) 2 acres  
(C) 2.48 acres (D) 2.47 acres

6. How many columns are there in A register?

- (A) 10 (B) 12  
(C) 8 (D) 14

அ பதிவேட்டில் மொத்தம் எத்தனை கலங்கள் உள்ளது?

- (A) 10 (B) 12  
(C) 8 (D) 14

7. A register containing particulars of all the properties owned by a Patta owner by assigning a single number

- (A) FMS (B) A register  
(C) Adangal (D) Chitta 10(1)

ஒரு பட்டாதாரருடைய முழுமையான சொத்து விவரங்கள் ஒரே எண் கொடுத்து பதிவு செய்திருக்கும் பதிவேடு

- (A) புலப்படம் (B) அ பதிவேடு  
(C) அடங்கல் (D) சிட்டா - 10(1)

8. In cadastral survey if a railway track, large drain, channel is more than 10 m breath, what type of fields they have to be set up as

- (A) Minor circuit  
(B) Long narrow field  
(C) Defined field  
(D) Long square field

நில அளவையில் ரோடு, இருப்புப் பாதை, பெரிய வாய்க்கால், கால்வாய் ஆகியவை 10 மீட்டருக்கு எவ்வகை புலங்களாக அமைக்கப்படுகிறது?

- (A) சிறு சுற்றுப்புலம்  
(B) நீண்ட குறுகிய புலம்  
(C) வரையறுக்கப்பட்ட புலம்  
(D) நீள் சதுர புலம்

9. Minimum scale for Natham FMS

- (A) 1:1000 mm (B) 1:2000 mm  
(C) 1:250 mm (D) 1:500 mm

நத்தம் புலப்படங்களை குறைந்தபட்சமாக எந்த அளவுகளில் வரைவு செய்யலாம்

- (A) 1:1000 மிமீ (B) 1:2000 மிமீ  
(C) 1:250 மிமீ (D) 1:500 மிமீ

10. During Patta Transfer Survey field with No. 2 may be subdivided into two sub divisions as

- (A) 2A, 2B (B) 2A1, 2A2  
(C) 2B, 2C (D) 2AA, 2AB

பட்டா மாறுதலின் போது 2 என்ற உட்பிரிவை உட்பிரிவு செய்து இரண்டு உட்பிரிவுகளாக பிரிக்கும் போது எவ்வாறு உட்பிரிவு எண் கொடுக்க வேண்டும்

- (A) 2A, 2B (B) 2A1, 2A2  
(C) 2B, 2C (D) 2AA, 2AB

11. Scale for fields of more than 20 Hectare area

- (A) 1:1000 mm (B) 1:2000 mm  
(C) 1:5000 mm (D) 1:500 mm

20 ஹெக்டேருக்கு மேல் உள்ள புலங்களை வரைவு செய்யும் போது எந்த அளவில் வரைவு செய்ய வேண்டும்

- (A) 1:1000 மிமீ (B) 1:2000 மிமீ  
(C) 1:5000 மிமீ (D) 1:500 மிமீ

12. 1 links = \_\_\_\_\_ m.

- (A) 0.4 m (B) 0.2 m  
(C) 0.1 m (D) 0.5 m

ஒரு லிங்க்ஸ் எத்தனை மீட்டர்

- (A) 0.4 மீ (B) 0.2 மீ  
(C) 0.1 மீ (D) 0.5 மீ

13. 1 acre equals to \_\_\_\_\_ ares.

- (A) 40.50 ares (B) 40.00 ares  
(C) 40 to 47 ares (D) 40.20 ares

1 ஏக்கருக்கு எத்தனை ஏர்ஸ்

- (A) 40.50 ஏர்ஸ் (B) 40.00 ஏர்ஸ்  
(C) 40 to 47 ஏர்ஸ் (D) 40.20 ஏர்ஸ்

14. A degree greater than 90

- (A) Right angle (B) Obtuse angle  
(C) Acute (D) Triangle

நேர்கோணத்தை விட அதிக வளைவு உடையது, 90 டிகிரிக்கு அதிகமானது

- (A) செங்கோணம் (B) விரிகோணம்  
(C) குறுங்கோணம் (D) முக்கோணம்

15. If 4 sides and 4 angles are equal then it is

- (A) Long square (B) Square  
(C) Triangle (D) Right angled triangle

ஒரு நாற்கோட்டின் நான்கு பக்கங்களும், நான்கு கோணங்களும் சமமாக இருந்தால் அதற்கு பெயர்

- (A) நீண்ட சதுரம் (B) சதுரம்  
(C) முக்கோணம் (D) செங்கோண முக்கோணம்

16. A map consists of all the details of a village

- (A) FMS (B) Stones map  
(C) Village map (D) Khandam map

ஒரு கிராமம் முழுமையாக அடங்கிய வரைபடம்

- (A) புலப்படம் (B) கல்படம்  
(C) கிராம வரைபடம் (D) கண்ட வரைபடம்

17. Measurement of A stones used in Town Survey

- (A)  $45 \times 20 \times 20$  cm  
(B)  $90 \times 22.5 \times 22.5$  cm  
(C)  $60 \times 15 \times 15$  cm  
(D)  $30 \times 15 \times 15$  cm

நகரளவையில் நடப்படும் 'A' கற்களில் அளவு என்ன?

- (A)  $45 \times 20 \times 20$  செமீ  
(B)  $90 \times 22.5 \times 22.5$  செமீ  
(C)  $60 \times 15 \times 15$  செமீ  
(D)  $30 \times 15 \times 15$  செமீ

18. In Town Survey close block must be of \_\_\_\_\_ Hectares.

- (A) 10 (B) 5  
(C) 4 (D) 16

நகரளவையில் Close Block எத்தனை ஹெக்டேருக்குள் இருக்கும்படி அமைக்க வேண்டும்.

- (A) 10 (B) 5  
(C) 4 (D) 16

19. For planting new stones in place of the missed ones, which notice has to be issued to the Ryots by Firka Surveyor and get it approved

- (A) 9(2) (B) 15(2)  
(C) 10(2) (D) 15(1)

காணாமல் போன கற்களைப் புதுப்பிக்க உள்வட்ட அளவரால் எவ்வகையான நோட்டீஸ் ரயத்துகளுக்கு வழங்கி ஒப்புதல் பெற வேண்டும்

- (A) 9(2) (B) 15(2)  
(C) 10(2) (D) 15(1)

20. If all the subdivisions are merged into a single field which no has to be assigned to

- (A) Largest subdivision no  
(B) Smallest sub division no  
(C) Any sub division no  
(D) New field no

உட்பிரிவுகளை ஒன்று சேர்க்கும் போது ஒன்று சேர்க்கப்பட்ட உட்பிரிவுகளில் எந்த உட்பிரிவு எண்ணைப் புதிதாக கொடுக்கப்பட வேண்டும்

- (A) மிகப்பெரிய உட்பிரிவு எண்  
(B) மிகக் குறைந்த உட்பிரிவு எண்  
(C) ஏதாவது ஒரு உட்பிரிவு எண்  
(D) புதிய புல எண்

21. 8A register in Taluk offices are maintained as

- (A) Calendar year wise (B) Pasali year wise  
(C) Once in 2 yrs (D) Once in 6 months

வட்ட அலுவலகத்தில் பராமரிக்கப்படும் 8A பதிவேடு எவ்வாறு பராமரிக்கப்படுகிறது

- (A) நாட்காட்டி ஆண்டின்படி (B) பசலி ஆண்டு  
(C) இரண்டு ஆண்டுக்கு ஒருமுறை (D) 6 மாதத்திற்கு ஒருமுறை

22. 10<sup>th</sup> column of A register consists of

- (A) Area (B) Patta owner name  
(C) Tax (D) Poramboke particulars

அ பதிவேட்டின் 10வது கலத்தில் எவை குறிக்கப்பட்டிருக்கும்

- (A) பரப்பு (B) பட்டாதாரர் பெயர்  
(C) தீர்வை (D) புறம்போக்கு விவரங்கள்

23. 9(2) report has to be approved by

- (A) Inspector (B) Assistant Director  
(C) Deputy Inspector (D) Settlement Tahsildar

9(2) அறிக்கையில் யார் ஒப்பமிட வேண்டும்

- (A) ஆய்வாளர் (B) உதவி இயக்குநர்  
(C) துணை ஆய்வாளர் (D) நிலவரித்திட்ட வட்டாட்சியர்

24. Full field online Patta Transfer applications has to be closed before

- (A) 30 days (B) 15 days  
(C) 60 days (D) 7 days

இணையதள பட்டா மாறுதலில் முழுப்புல பட்டா மாறுதல் எத்தனை நாட்களுக்குள் முடிவு செய்ய வேண்டும்?

- (A) 30 நாட்களுக்குள் (B) 15 நாட்களுக்குள்  
(C) 60 நாட்களுக்குள் (D) 7 நாட்களுக்குள்

25. 8A in Taluk offices are maintained by

- (A) Land Records Draftsman  
(B) Senior Draftsman  
(C) Deputy Inspector  
(D) Field Surveyor

வட்ட அலுவலகத்தில் 8A பதிவேடு யாரால் பதிந்து நடவடிக்கை எடுக்கப்படுகிறது

- (A) நில ஆவண வரைவாளர்  
(B) முதுநிலை வரைவாளர்  
(C) துணை ஆய்வாளர்  
(D) நில அளவர்

26. \_\_\_\_\_ amount has to be paid as a charge towards field boundary through a challan.

- (A) Rs. 80 (B) Rs. 40  
(C) Rs. 50 (D) Rs. 20

புல எல்லைக் கட்டணம் ஒவ்வொரு பக்கத்திற்கும் எவ்வளவு ரூபாய் வீதம் கட்டணம் செலுத்துச் சீட்டில் செலுத்த வேண்டும்.

- (A) ரூ. 80 (B) ரூ. 40  
(C) ரூ. 50 (D) ரூ. 20

27. Which type of payment has to be done by the petitioner for survey of field boundaries?

- (A) Ordinary field boundary charges  
(B) Special field boundary charges  
(C) Sub division charges  
(D) Not necessary

மனுதாருக்கு கிரைய ஆவணப்படி புல எல்லை அளவை செய்ய எவ்வகையான கட்டணம் செலுத்த வேண்டும்

- (A) சாதாரண புல எல்லை கட்டணம்  
(B) சிறப்பு புல எல்லை கட்டணம்  
(C) உட்பிரிவு கட்டணம்  
(D) கட்டணம் செலுத்த வேண்டியதில்லை

28. As per the Land survey and Boundaries act 1923, final advertisement is published under section

- (A) 15 (B) 13  
(C) 12 (D) 27

நிலஅளவை எல்லைச் சட்டம் 1923-ன் படி ஒரு கிராமத்தை சர்வே செய்து முடித்தமைக்கான இறுதி விளம்பரம் எந்த பிரிவின்கீழ் செய்யப்படுகிறது?

- (A) 15 (B) 13  
(C) 12 (D) 27

29. A stone planted at the point where 3 villages meet at

- (A) Bi junction (B) Tri junction  
(C) Khandam stone (D) Pointer

மூன்று கிராமங்கள் சந்திக்கும் இடத்தில் நடப்படும் கற்களின் பெயர்

- (A) பை – ஜங்சன் (B) ட்ரை – ஜங்சன்  
(C) கண்டக்கல் (D) பாய்ண்டர்

30. Account No. 7 in Taluk offices maintained for registering
- (A) Permanent changes (B) Category changes  
(C) Patta transfer (D) Boundary changes
- வட்ட அலுவலகத்தில் 7ம் எண் கணக்கில் எவ்வகையான பதிவுகளை பதிவு செய்ய வேண்டும்
- (A) நிலையான மாறுதல்கள் (B) வகைப்பாடு மாற்றம்  
(C) பட்டா மாறுதல் (D) எல்லை மாறுதல்
31. Map is scrutinized and approved at Taluk office by
- (A) Land Record Draftsman (B) Tahsildar  
(C) Taluk Deputy Inspector (D) Senior Draftsman
- வட்ட அலுவலகங்களில் வரைபடத்தில் கூராய்வு செய்து ஒப்புதல் வழங்குவது யார்?
- (A) நில ஆவண வரைவாளர் (B) வட்டாட்சியர்  
(C) வட்டத் துணை ஆய்வாளர் (D) முதுநிலை வரைவாளர்
32. Patta transfer changes involving sub divisions are carried out in village accounts by
- (A) VAO  
(B) Firka Surveyor  
(C) Senior Draftsman  
(D) Zonal Deputy Tahsildar
- உட்பிரிவு பட்டா மாறுதல்களை கிராம கணக்குகளில் மாறுதல் செய்பவர் யார்?
- (A) கிராம நிர்வாக அலுவலர்  
(B) உள்வட்ட அளவர்  
(C) முதுநிலை வரைவாளர்  
(D) மண்டல துணை வட்டாட்சியர்
33. Village stone Depo Register maintained by
- (A) Tahsildar (B) Taluk Deputy Inspector  
(C) VAO (D) Firka Surveyor
- கிராம கல் இருப்பு பதிவேடு யாரால் பராமரிக்கப்படுகிறது?
- (A) வட்டாட்சியர் (B) வட்ட சார் ஆய்வாளர்  
(C) கிராம நிர்வாக அலுவலர் (D) உள்வட்ட அளவர்



34. Appeal petitions in respect of field boundaries has to be maintained at Taluk offices in

- (A) Field boundary petitions register
- (B) Field boundary Appeal petitions Register
- (C) Patta transfer register
- (D) 8A register

வட்ட அலுவலகங்களில் பெறப்படும் மேல் முறையீடு புல எல்லை மனுக்களை எவ்வகையான பதிவேட்டில் பதிவு செய்ய வேண்டும்

- (A) புல எல்லை மனுக்கள் பதிவேடு
- (B) மேல் முறையீட்டு புல எல்லை மனுப்பதிவேடு
- (C) பட்டா மாறுதல் பதிவேடு
- (D) 8A பதிவேடு

35. Stones to be planted in field tri junctions

- (A) A stone
- (B) B stone
- (C) C stone
- (D) Chain survey stone

புல முச்சந்தியில் நடப்படும் நிலஅளவை கல்

- (A) A கல்
- (B) B கல்
- (C) C கல்
- (D) செயின் சர்வே கல்

36. When maltified of sq meter to sq feet? 1 sqm = ?

- (A) 10.5
- (B) 10.75
- (C) 435.5
- (D) 10.764

சதுரமீட்டரை சதுர அடியாக மாறுதல் செய்ய எத்தனையால் பெருக்க வேண்டும்? 1 சதுரமீட்டர் = \_\_\_\_\_?

- (A) 10.5
- (B) 10.75
- (C) 435.5
- (D) 10.764

37. 1 ares = \_\_\_\_\_ sqm.

- (A) 1000
- (B) 500
- (C) 100
- (D) 247

1 ஏர்ஸ் எத்தனை சதுர மீட்டர்.

- (A) 1000
- (B) 500
- (C) 100
- (D) 247

38. Maximum permissible error limit in respect of the difference between calculated area and the registered area

- (A) 1% (B) 5%  
(C) 3% (D) 10%

விஸ்தீரணப்பிழை தற்போது உள்ள விஸ்தீரணத்திற்கும் பதிவு செய்யப்பட்டுள்ள விஸ்தீரணத்திற்கும் எத்தனை சதவீதம் வரை இருக்கலாம்

- (A) 1% (B) 5%  
(C) 3% (D) 10%

39. Mark to be carved out of the top of B stones in Village boundaries.

- (A) + (B) ⊙  
(C) S (D) △

கிராம எல்லையில் நடப்படும் B கற்களின் உச்சியில் எவ்வகையான குறியிடு குறியிடப்பட வேண்டும்

- (A) + (B) ⊙  
(C) S (D) △

40. Share of municipality in respect of expenditure in Town Survey

- (A) The whole amount (B) Half  
(C) One third (D) One fourth

நகர அளவையின் போது ஏற்படும் செலவில் சம்பந்தப்பட்ட நகராட்சி எவ்வளவு செலுத்தப்பட வேண்டும்

- (A) முழுத் தொகையும் (B) அரை பங்கு  
(C) மூன்றில் ஒரு பங்கு (D) கால் பங்கு

41. Height of cross staff

- (A) 150 cm (B) 140 cm  
(C) 135 cm (D) 130 cm

நேர்கோணகட்டையின் உயரம் எவ்வளவு?

- (A) 150 செமீ (B) 140 செமீ  
(C) 135 செமீ (D) 130 செமீ

42. A distance between 2 GT stations must be  
(A) 25 to 40 km (B) 40 to 60 km  
(C) 50 to 100 km (D) 30 to 50 km

2 GT நிலையங்கள் எவ்வளவு தூரத்தில் அமைக்கப்படுகிறது?

- (A) 25 to 40 கி.மீ (B) 40 to 60 கி.மீ  
(C) 50 to 100 கி.மீ (D) 30 to 50 கி.மீ

43. Revenue survey to be conducted by  
(A) Central Government (B) State Government  
(C) District administration (D) Taluk administration

ரெவென்யூ சர்வே யாரால் செய்யப்படுகிறது?

- (A) மத்திய அரசு (B) மாநில அரசு  
(C) மாவட்ட நிர்வாகம் (D) வட்ட நிர்வாகம்

44. How to drawn of village map?  
(A) Survey no's wise  
(B) Sub divisions wise  
(C) With the measurement of boundaries  
(D) Village wise

கிராமப்படம் எவ்வாறு வரைவு செய்யப்படும்?

- (A) புல எண் வாரியாக  
(B) உட்பிரிவு வாரியாக  
(C) எல்லை அளவுகளுடன்  
(D) உட்கடை கிராம வாரியாக

45. Why prepared for cost of estimate combined map?  
(A) Sale of lands  
(B) To nearest of land cost  
(C) To inspect land  
(D) To survey land

விலை மதிப்பீட்டு கூட்டு வரைபடம் எதற்காக தயார் செய்யப்படுகிறது?

- (A) நிலங்களை விற்பனை செய்ய  
(B) அருகில் உள்ள நிலத்தின் விலையை நிர்ணயம் செய்வதற்கு  
(C) நிலத்தை சரிபார்க்க  
(D) நிலங்களை அளவு செய்ய

46. Digitization of FMS was started in the year

- (A) 2010 (B) 2004  
(C) 2005 (D) 2013

புலப்படங்கள் கணினியில் வரையும் பணி எந்த ஆண்டு துவங்கப்பட்டது?

- (A) 2010 (B) 2004  
(C) 2005 (D) 2013

47. A type of mark carved out in at the top of the stone planted in Poramboke bends

- (A) + Mark (B) S Mark  
(C) ⊙ (D) ≡

புறம்போக்கு வளைவுப்பகுதிகளில் நடப்படும் கற்களின் உச்சியில் எவ்வகை குறியீடு பொறிக்கப்பட்டிருக்கும்?

- (A) + குறியீடு (B) S குறியீடு  
(C) ⊙ (D) ≡

48. Minor Circuit fields has to be set up as a field if its greater than

- (A) 50 Hectares (B) 40 Hectares  
(C) above 20 Hectares (D) 1.60.0 Hectares

சிறு சுற்றுப் புலங்களை எத்தனை ஹெக்டேருக்குள் மேல் இருந்தால் புலமாக அமைக்க வேண்டும்?

- (A) 50 ஹெக்டேர் (B) 40 ஹெக்டேர்  
(C) 20 ஹெக்டேருக்கும் மேல் (D) 1.60.0 ஹெக்டேர்

49. Computerisation of Land records have been implemented in the year

- (A) 1994 (B) 2000  
(C) 1992 (D) 2001

நிலஅளவை பதிவுருக்கள் எந்த ஆண்டு கணினிமயமாக்கல் திட்டம் செயல்படுத்தப்பட்டது

- (A) 1994 (B) 2000  
(C) 1992 (D) 2001

50. Cart track details has to be marked in map as

- (A) ..... (B) -----  
(C) ===== (D) ++++++

வண்டிப்பாதை விளக்கியை எவ்வாறு வரைபடத்தில் வரைவு செய்ய வேண்டும்?

- (A) ..... (B) -----  
(C) ===== (D) ++++++

51. Patta transfer petitions received from sub registrar office, registering in this register

- (A) 8A (B) 6(2)  
(C) Field boundary petitions Register (D) 6(1)

சார் பதிவாளர் அலுவலகத்திலிருந்து பெறப்படும் பட்டா மாறுதல் மனுக்கள் எந்த பதிவேட்டில் பதிவு செய்யப்பட வேண்டும்?

- (A) 8A பதிவேடு (B) 6(2) பதிவேடு  
(C) புல எல்லைப் பதிவேடு (D) 6(1) பதிவேடு

52. Sub division number in FMS has to be started to assigned from ————— direction.

- (A) North East (B) South east  
(C) North West (D) South west

புலப்படத்தில் உட்பிரிவுகள் எண் கொடுக்கும் போது எந்த பகுதியிலிருந்து ஆரம்பிக்க வேண்டும்.

- (A) வடகிழக்கு மூலையிலிருந்து  
(B) தென்கிழக்கு மூலையிலிருந்து  
(C) வடமேற்கு மூலையிலிருந்து  
(D) தென்மேற்கு மூலையிலிருந்து

53. Survey Training Institute in Tamilnadu is situated at

- (A) Chennai (B) Madurai  
(C) Coimbatore (D) Orathanadu

நில அளவை பயிற்சி மையம் தமிழ்நாட்டில் எங்கு உள்ளது?

- (A) சென்னை (B) மதுரை  
(C) கோயம்புத்தூர் (D) ஓரத்தநாடு

54. If four sides are equal

- (A) Square (B) Long Square  
(C) Rectangle (D) Triangle

நான்கு பக்கமும் ஒரே அளவுகள் கொண்டவை?

- (A) சதுரம் (B) நீள் சதுரம்  
(C) செவ்வகம் (D) முக்கோணம்

55. Software used for online Patta Transfer

- (A) Collabland (B) Tamil nilam  
(C) 7.2 version (D) 7.1 version

இணையதள பட்டா மாறுதலுக்கு எவ்வகை மென்பொருள் பயன்படுத்தப்படுகிறது?

- (A) கொலாப்லேண்ட் (B) தமிழ்நிலம்  
(C) 7.2 வெர்சன் (D) 7.1 வெர்சன்

56. Action to be taken on field boundary petitions within \_\_\_\_\_ days.

- (A) 45 (B) 90  
(C) 30 (D) 15

புல எல்லை மனுக்கள் மீது எத்தனை நாட்களுக்குள் நடவடிக்கை எடுக்கப்பட வேண்டும்?

- (A) 45 (B) 90  
(C) 30 (D) 15

57. Tamilnadu Survey and boundaries act was enacted in

- (A) 1958 (B) 1948  
(C) 1923 (D) 1927

தமிழ்நாடு நில அளவைச் சட்டம் எந்த ஆண்டில் ஏற்படுத்தப்பட்டது?

- (A) 1958 (B) 1948  
(C) 1923 (D) 1927

58. Length of chain used for survey

- (A) 22 m (B) 20 m  
(C) 15 m (D) 18 m

நில அளவை செய்ய பயன்படும் சங்கிலியின் நீளம்?

- (A) 22 மீ (B) 20 மீ  
(C) 15 மீ (D) 18 மீ

59. Length of a Chain used for survey is \_\_\_\_\_ links.

- (A) 80 (B) 100  
(C) 110 (D) 120

நில அளவைக்கு பயன்படும் சங்கிலியில் இருக்கும் லிங்க்ஸ்

- (A) 80 (B) 100  
(C) 110 (D) 120

60. No. of brass index (Tally) in chain used for survey

- (A) 3 (B) 4  
(C) 5 (D) 6

நில அளவைக்கு பயன்படும் சங்கிலியில் இருக்கும் (தாலிகள்)

- (A) 3 (B) 4  
(C) 5 (D) 6

61. Measurement of square in the cross staff

- (A) 8 cm (B) 9 cm  
(C) 10 cm (D) 11 cm

கிராஸ் ஸ்டாப் என்ற நேர்கோண கட்டையின் உள்ள கட்டையின் சதுரத்தின் அளவு?

- (A) 8 செமீ (B) 9 செமீ  
(C) 10 செமீ (D) 11 செமீ

62. Volume of the cross staff

- (A) 5.5 cm (B) 6.5 cm  
(C) 7.5 cm (D) 8.5 cm

கிராஸ் ஸ்டாப் என்ற நேர்கோண கட்டையின் கன அளவு?

- (A) 5.5 செமீ (B) 6.5 செமீ  
(C) 7.5 செமீ (D) 8.5 செமீ

63. Length of the rod of cross staff

- (A) 1.35 m (B) 1.75 m  
(C) 1.8 m (D) 1.85 m

கிராஸ் ஸ்டாப் என்ற நேர்கோண கட்டையின் நீளம்?

- (A) 1.35 மீ (B) 1.75 மீ  
(C) 1.8 மீ (D) 1.85 மீ

64. No of arrows to be provided for 1 chain for survey

- (A) 8 (B) 9  
(C) 10 (D) 11

நில அளவையில் அளக்கும் போது ஒரு சங்கிலிக்கு வழங்கப்படும் ஊசிகளின் எண்ணிக்கை

- (A) 8 (B) 9  
(C) 10 (D) 11

65. Method of Survey in present use now is

- (A) Punganur (B) Block map  
(C) Diagonal offset (D) Khazara

தற்போது நில அளவை செய்யப்படும் முறை

- (A) புங்கனூர் (B) பிளாக்மேப் முறை  
(C) மூலைவிட்ட ஆப்செட் முறை (D) கசாரா முறை

66. Work consists of surveying, sketching and calculating the area of a field is

- (A) A work (B) D work  
(C) E work (D) F work

நில அளவை புலங்களில் அளவுப்பணி செய்து படம் வரைந்து பரப்பு கணிப்பதற்கு உள்ள பெயர்

- (A) A பணி (B) D பணி  
(C) E பணி (D) F பணி

67. If a field is of more than 10 m breath and 200 m length it's set up as

- (A) Main circuit (B) Long narrow field  
(C) Minor circuit field (D) Triangular field

10 மீட்டருக்கும் அதிகமான அகலமும் 200 மீ நீளமும் உள்ள புலங்களாக அளக்கப்பட்டுள்ள புலம்

- (A) முக்கிய சுற்று (B) நீண்ட குறுகிய புலம்  
(C) சிறு சுற்றுப் புலம் (D) முக்கோண புலம்

68. Name of the Measurements help to identify the stones planted in Town Survey

- (A) Bertel line (B) Tie line  
(C) Nero line (D) Straight line

நகர அளவையில் ஊன்டப்பட்டுள்ள கற்களை கண்டுபிடிக்க மூன்று அளவுகள் கொடுக்கப்பட்டிருக்கும். அதன் பெயர்?

- (A) பர்ட்டால் லைன் (B) டை லைன்  
(C) நேரோ லைன் (D) நேரளவு நேர்கோடு



69. Notification issued to the owner for surveying a field through the notice

- (A) 9 (B) 10  
(C) 11 (D) 12

ஒரு கிராமத்தில் நில அளவை செய்வதற்காக நில சொந்தக்காரருக்கு கொடுக்கப்படும் அறிவிப்பு படிவம்

- (A) 9 (B) 10  
(C) 11 (D) 12

70. Villages in A register at Taluk offices are recorded as

- (A) Area wise  
(B) Alphabet order wise  
(C) Population wise  
(D) Firka wise

வட்ட அலுவலக அ பதிவேட்டில் கிராமங்கள் இவ்வாறு எழுதப்பட்டிருக்கும்

- (A) பரப்பளவு படி  
(B) அகர வரிசைப்படி  
(C) மக்கள் தொகைப்படி  
(D) பிர்க்கா வாரியாக

71. Map showing the Extension Areas those yet to be Town surveyed

- (A) Index map (B) Ward map  
(C) Block map (D) Eye sketch

நகர அளவைக்கு ஏற்கனவே உள்ள பரப்பை விரிவாக்கம் செய்யும் போது விரிவாக்கப் பகுதிகளைக் காட்டும் வரைபடத்தின் பெயர்

- (A) அட்டவணை வரைபடம் (B) வார்டு மேப்  
(C) பிளாக் மேப் (D) கண் வரைபடம்

72. No of the Village account which is to be recorded after patta transfer

- (A) Account no. 2 (B) Account no. 3  
(C) Account no. 4 (D) Account no. 5

பட்டா மாறுதல் செய்யப்பட்ட பின்பு கிராமத்தில் உள்ள பதிவேட்டில் பதியப்படும் இதற்கு பெயர்

- (A) இரண்டாம் நம்பர் கணக்கு (B) மூன்றாம் நம்பர் கணக்கு  
(C) நான்காம் நம்பர் கணக்கு (D) ஐந்தாம் நம்பர் கணக்கு

73. Area of a circle

- (A)  $2\pi r$  (B)  $\pi r^2$   
(C) length  $\times$  breath (D) square  $\times$  square

வட்டத்தின் பரப்பு கணக்கீடு செய்ய

- (A)  $2\pi r$  (B)  $\pi r^2$   
(C) நீளம்  $\times$  அகலம் (D) பக்கம்  $\times$  பக்கம்

74. Updating of Land Registry Scheme has been started in the year

- (A) 1982 (B) 1979  
(C) 1978 (D) 1981

நில உடைமை பதிவு மேம்பாட்டுத்திட்டம் ஆரம்பிக்கப்பட்ட ஆண்டு?

- (A) 1982 (B) 1979  
(C) 1978 (D) 1981

75. A distance covered between two longitudes by the latitude

- (A) Merriam distance (B) Zenith distance  
(C) North distance (D) East distance

இரண்டு தீர்க்க ரேகைக்கு இடையேயுள்ள அட்சரேகை தூரத்தை இவ்வாறு குறிப்பிடுவர்

- (A) மெரிடினம் தூரம் (B) ஜெனித் தூரம்  
(C) வடக்கு தூரம் (D) கிழக்கு தூரம்

76. Tie line for surveying either of a street in Town Survey is set up as

- (A) In the corner of street (B) Centre of the street  
(C) Across the street (D) None of the above

நகர அளவையில் தெருவின் இரண்டு பக்கமும் அளவீடு செய்வதற்காக கொடுக்கப்பட்டிருக்கும் டை-லைன் இவ்வாறு அமைக்கப்பட்டிருக்கும்

- (A) தெருவின் ஓரத்தில் (B) தெருவின் மையத்தில்  
(C) தெருவின் குறுக்காக (D) இவை மூன்றும் இல்லை

77. Height of the Theodolite stone used for open Blocks in Town Survey

- (A) 80 cm (B) 85 cm  
(C) 90 cm (D) 95 cm

நகர அளவையில் Open Block நடப்படும் தியோடலைட் கல்லின் உயரம் இவ்வாறு இருக்க வேண்டும்?

- (A) 80 செமீ (B) 85 செமீ  
(C) 90 செமீ (D) 95 செமீ

78. Stones used in Town Survey are of

- (A) 60 cm height, 15 × 15 square  
(B) 30 cm height, 10 × 10 square  
(C) 40 cm height, 20 × 30 square  
(D) 70 cm height, 12 × 12 square

நகர அளவையில் நடப்படும் சர்வே கற்கள் இவ்வாறு இருக்கும்

- (A) 60 cm உயரம், 15 × 15 சதுரம்  
(B) 30 cm உயரம், 10 × 10 சதுரம்  
(C) 40 cm உயரம், 20 × 30 சதுரம்  
(D) 70 cm உயரம், 12 × 12 சதுரம்

79. In Town Survey the Tar mark has to be drawn in a place where permanent buildings situated at

- (A) + mark (B) – mark  
(C) ↑ (Arrow mark) (D) ----- mark

நகர அளவையில் கல் நட வேண்டிய இடங்களில் நிலையான கட்டிடங்கள் அமைந்திருக்குமானால் அந்த இடத்தில் தாரினால் இந்த குறி இடப்பட்டிருக்கும்?

- (A) + குறி (B) – குறி  
(C) ↑ குறி (D) ----- குறி

80. Area of a sub division in the present A register is recorded as

- (A) Acre cent (B) Hectare ares  
(C) Sqm (D) Rectangle metre

தற்போதைய அ பதிவேட்டில் குறிக்கப்பட்டிருக்கும் ஒரு உட்பிரிவுக்கான பரப்பு இவ்வாறு குறிக்கப்பட்டிருக்கும்

- (A) ஏக்கர் சென்ட் (B) ஹெக்டேர் ஏர்ஸ்  
(C) சதுர மீட்டர் (D) செவ்வக மீட்டர்

81. New sub divisions to be marked in FMB using \_\_\_\_\_ Ink during Patta Transfer.

- (A) Green (B) Red  
(C) Blue (D) Black

பட்டா மாறுதல் செய்யும்போது FMB புலப்படச்சுவடியில் புதிய உட்பிரிவுகள் எந்த மையினால் வரையப்பட்டிருக்கும்

- (A) பச்சை (B) சிவப்பு  
(C) ஊதா (D) கருப்பு

82. Petitions for land assignment at Taluk offices are being recorded in

- (A) Register 3 (B) Register 4  
(C) Register 5 (D) Register 6

வட்டாட்சியர் அலுவலகத்தில் நில ஒப்படை செய்து தரக்கோரி வரும் மனுக்கள் பதியப்படும் பதிவேடு இதுவாகும்

- (A) 3 ஆம் எண் பதிவேடு (B) 4 ஆம் எண் பதிவேடு  
(C) 5 ஆம் எண் பதிவேடு (D) 6 ஆம் எண் பதிவேடு

83. Percentage of self inspection to be done by the Filed Surveyor in a village

- (A) 30% (B) 35%  
(C) 40% (D) 45%

நில அளவர் ஒரு கிராமத்தில் எத்தனை சதவீதம் சுய தணிக்கை செய்ய வேண்டும்

- (A) 30% (B) 35%  
(C) 40% (D) 45%

84. Percentage of stones inspection to be done by the Maintenance Surveyor is

- (A) 10 (B) 15  
(C) 20 (D) 25

பராமரிப்பு அளவர் கல் தணிக்கை எத்தனை சதவீதம் மேல் தணிக்கை செய்ய வேண்டும்?

- (A) 10 (B) 15  
(C) 20 (D) 25

85. Surveying a village for the first time is known as

- (A) Initial Survey (B) Resurvey  
(C) Supplementary Survey (D) Natham survey

ஒரு கிராமத்தை முதன் முதலில் சர்வே செய்வதற்கு இவ்வாறு பெயர்


- (A) முதல் நில அளவை (B) மறு நில அளவை  
(C) துணை நில அளவை (D) நத்தம் நில அளவை

86. Direction of the Sun during March 21 to September 23


- (A) East (B) West  
(C) North (D) South

சூரியன் மார்ச் 21 முதல் செப்டம்பர் 23 முடிய இருக்கும் திசை

- (A) கிழக்கு (B) மேற்கு  
(C) வடக்கு (D) தெற்கு

87.  ————— this symbol denotes.

- (A) Hut (B) Ruined house  
(C) Tiled house (D) Vacant plot

 இது விளக்கி எத்தகைய வீட்டை குறிக்கின்றது

- (A) கூரை வீடு (B) இடிந்த வீடு  
(C) ஓட்டு வீடு (D) காலிமனை

88. During survey in a village, in Wetlands, formation of a field consisting the area of

- (A) 2 hectares (B) 3 hectares  
(C) 4 hectares (D) 5 hectares

கிராமத்தை நில அளவை செய்யும் போது நஞ்சை நிலத்தில் புலம் எவ்வளவு விஸ்தீரணம் உள்ளதாக அமைக்க வேண்டும்?

- (A) 2 ஹெக்டேர் (B) 3 ஹெக்டேர்  
(C) 4 ஹெக்டேர் (D) 5 ஹெக்டேர்

89. During survey in a village, in Dry lands, formation of a field consisting the area of

- (A) 2 (B) 3  
(C) 4 (D) 5

கிராமத்தை நில அளவை செய்யும்போது புஞ்சை நிலத்தில் புலம் எவ்வளவு விஸ்தீரணம் உள்ளதாக அமைக்க வேண்டும்?

- (A) 2 ஹெக்டேர் (B) 3 ஹெக்டேர்  
(C) 4 ஹெக்டேர் (D) 5 ஹெக்டேர்

90. No of sections in the Tamilnadu Survey and boundaries act

- (A) 10 (B) 15  
(C) 20 (D) 27

தமிழ்நாடு சர்வே மற்றும் எல்லைகள் குறித்த சட்டக் குறிப்புகள் எத்தனை பிரிவுகளாக உள்ளது

- (A) 10 (B) 15  
(C) 20 (D) 27

91. Section \_\_\_\_\_ envisages the provision for noticing the land owners about the Survey work before starting up the Survey work in a village.

- (A) Section 5A (B) 6(1)  
(C) 7 (D) 8

ஒரு கிராமத்தை சர்வே செய்வதற்கு முன்பாக நில அளவை செய்யப்போகிறோம் என்று நில உரிமையாளர்களுக்கு தெரிவிக்கும் சட்டப்பிரிவு இவ்வாறு அழைக்கப்படுகிறது?

- (A) பிரிவு 5A (B) பிரிவு 6(1)  
(C) பிரிவு 7 (D) பிரிவு 8

92. House, well, Electric line, road, Cemetery, channel are drawn in maps are called as

- (A) FMB (B) Details  
(C) Khandam (D) A Register

வீடு, கிணறு, மின்சார லைன், மயானம், ரோடு, வாய்க்கால் போன்றவைகளை வரைபடத்தில் வரைவு செய்து இவ்வாறு அழைப்போம்.

- (A) FMB (B) விளக்கிகள்  
(C) கண்டம் (D) அபதிவேடு

93. During a survey of a village, Khandam area in Wetland.

- (A) 40 Hectare (B) 50 Hectare  
(C) 60 Hectare (D) 70 Hectare

ஒரு கிராமம் சர்வே செய்யப்படும் போது நஞ்சையில் பிரிக்கப்படும் கண்டம் எவ்வளவு பரப்புடையதாக இருக்க வேண்டும்?

- (A) 40 ஹெக்டேர் (B) 50 ஹெக்டேர்  
(C) 60 ஹெக்டேர் (D) 70 ஹெக்டேர்

94. During a survey of a village, area in Dry land.

- (A) 40 Hectare (B) 80 Hectare  
(C) 70 Hectare (D) 60 Hectare

ஒரு கிராமம் சர்வே செய்யப்படும் போது புஞ்சையில் பிரிக்கப்படும் கண்டம் எவ்வளவு பரப்புடையதாக இருக்க வேண்டும்?

- (A) 40 ஹெக்டேர் (B) 80 ஹெக்டேர்  
(C) 70 ஹெக்டேர் (D) 60 ஹெக்டேர்

95. Map showing A and B stones to be maintained in Village

- (A) D sketch (B) A Register  
(C) FMB (D) Chitta

கிராமத்தில் பராமரிக்கப்படும் A, B கற்களைக் காட்டும் வரைபடம் இவ்வாறு அழைக்கப்படும்?

- (A) D ஸ்கேச் (B) அ பதிவேடு  
(C) FMB (D) சிட்டா

96. Particulars viz., village war collections and balance in respect of Stone renewal charges are maintained in

- (A) Register 5 (B) VI Register  
(C) VII Register (D) Register 8

ஒவ்வொரு கிராமத்திலும் கல் புதுப்பிப்பது தொடர்பாக வசூல் செய்ய வேண்டிய நிலுவைத் தொகை, வசூல் தொகையை காண்பிக்கும் பதிவேடு?

- (A) 5 ஆம் எண் பதிவேடு (B) VI ஆம் எண் பதிவேடு  
(C) VII ஆம் எண் பதிவேடு (D) 8 ஆம் எண் பதிவேடு

97. After completing the survey work in a Village particulars about the survey fields to the owners may be notified by issuing notice no

- (A) 9(2) (B) 10(2)  
(C) 8(1) (D) 6(1)

ஒரு கிராமத்தை நில அளவை செய்து முடித்த பின்பு நில சொந்தக்காரருக்கு அவரின் நிலம் தொடர்பான விவரங்களை தெரிவித்து வழங்கப்படும் நோட்டீஸ் இதுவாகும்

- (A) 9(2) (B) 10(2)  
(C) 8(1) (D) 6(1)

98. Report on Land encroachment in Poramboke lands must be surveyed, prepared as sketches and to be sent to the Tahsildar by

- (A) Inspector (B) Deputy Inspector  
(C) Sub Inspector (D) Firka Surveyor

புறம்போக்கு நிலங்களில் உள்ள அக்கிரமிப்புகளை அளந்து வரைபடம் தயாரித்து வட்டாட்சியருக்கு அறிக்கை செய்வது இவரின் கடமையாகும்

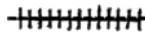
- (A) ஆய்வாளர் (B) துணை ஆய்வாளர்  
(C) சார் ஆய்வாளர் (D) குறுவட்ட அளவர்

99. Maximum permissible error limit in surveying the distance of about 5 chains length is

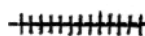
- (A) 1 links (B) 3 links  
(C) 5 links (D) 6 links

நில அளவை செய்யும் போது 5 சங்கிலி தூரத்திற்கு அனுமதிக்கப்பட்ட அளவு பிழை எத்தனை லிங்க்ஸ்

- (A) 1 லிங்க்ஸ் (B) 3 லிங்க்ஸ்  
(C) 5 லிங்க்ஸ் (D) 6 லிங்க்ஸ்

100.  this symbol denotes

- (A) Pavement (B) Road  
(C) Cart track (D) Railway line

 இது விளக்கி எதைக் குறிக்கிறது?

- (A) நடைபாதை (B) ரோடு  
(C) வண்டிப்பாதை (D) ரயில்வே லைன்



**ROUGH WORK**

## ROUGH WORK