

COMPUSLORY TAMIL ELIGIBILITY TEST WITH
GENERAL STUDIES

பகுதி-அ (தமிழ் தகுதி தேர்வு)

Part-A (Tamil Eligibility Test)

வினாக்கள் : 1-100

மொத்த மதிப்பெண்கள் : 150

Questions : 1-100

Total Marks

: 150

1. “இங்கு நகரப் பேருந்து நிற்குமா?” என்ற வழிப்போக்கனின் வினாவுக்கு “அதோ, அங்கு நிற்கும்” என்று விடையளிப்பது
- (A) நேர் விடை (B) ஏவல் விடை
(C) சுட்டு விடை (D) மறை விடை
(E) விடை தெரியவில்லை
2. சரியான விடை வகையை தெரிவு செய்க.
- “உனக்குக் கதை எழுதத் தெரியுமா?” என்ற வினாவிற்குக் “கட்டுரை எழுதத் தெரியும்” என்று கூறுவது
- (A) நேர்விடை (B) ஏவல் விடை
(C) இனமொழி விடை (D) மறைவிடை
(E) விடை தெரியவில்லை
3. எவ்வகை வினா என்பதை எழுதுக.
- ஆசிரியரிடம், ‘இந்தக் கவிதையின் பொருள் யாது?’ என்று மாணவர் கேட்டல்.
- (A) அறி வினா (B) ஐய வினா
(C) அறியா வினா (D) கொளல் வினா
(E) விடை தெரியவில்லை

4. அலுவல் சார்ந்த கலைச்சொற்களுக்குத் தமிழாக்கம் அறிக.
டெலிகேட் :
- (A) செயலர் (B) மேலாளர்
(C) பேராளர் (D) வடிவமைப்பு
(E) விடை தெரியவில்லை

5. சரியான கலைச்சொல்லால் பொருத்துக.
- (a) அகழாய்வு (1) Epigraphy
(b) கல்வெட்டியல் (2) Inscription
(c) பொறிப்பு (3) Embossed sculpture
(d) புடைப்புச் சிற்பம் (4) Excavation

- | | (a) | (b) | (c) | (d) |
|-----|------------------|-----|-----|-----|
| (A) | 4 | 1 | 2 | 3 |
| (B) | 2 | 4 | 1 | 3 |
| (C) | 2 | 1 | 4 | 3 |
| (D) | 4 | 2 | 1 | 3 |
| (E) | விடை தெரியவில்லை | | | |

6. 'MEDIA' - என்பதற்கு இணையான கலைச்சொல் தருக.
- (A) இதழியல் (B) ஊடகம்
(C) உரையாடல் (D) பொம்மலாட்டம்
(E) விடை தெரியவில்லை

7. உவமையால் விளக்கப்பெறும் பொருத்தமான பொருளைத் தேர்ந்தெழுதுதல்.
 “நெல்லிக்காய் மூட்டையைக் கொட்டினாற் போல”
- (A) பயனற்ற செயல் (B) தற்செயல் நிகழ்வு
~~(C)~~ ஒற்றுமையின்மை (D) வெளிப்படைத் தன்மை
 (E) விடை தெரியவில்லை
8. பின்வரும் மரபுத் தொடரைப் பொருளோடு பொருத்துக.
 ‘கல்லில் நார் உரித்தல்’
- (A) ஆராய்ந்து பார்த்துச் செய்தல் ~~(B)~~ இயலாத செயல்
 (C) நீண்டகாலமாக இருப்பது (D) விரைந்து வெளியேறுதல்
 (E) விடை தெரியவில்லை
9. கிணறு வெட்டப் பூதம் கிளம்பியது போல - இந்த உவமையின் பொருளைத் தேர்க.
 (A) தற்செயல் நிகழ்வு (B) தடையின்றி மிகுதியாக
 (C) அவசரகுடுக்கை ~~(D)~~ எதிர்பாரா நிகழ்வு
 (E) விடை தெரியவில்லை
10. தந்தை மகனை நன்றாகப் படிக்க வைத்தார் - எவ்வகை வாக்கியம் எனக் கண்டறிக.
 (A) தன்வினை ~~(B)~~ பிறவினை
 (C) செய்வினை (D) செயப்பாட்டு வினை
 (E) விடை தெரியவில்லை

11. எவ்வகை வாக்கியம் எனக் கண்டெழுதுக.

“அவர்கள் நன்றாகப் படித்தனர்.”

(A) பிறவினை

~~(B)~~ தன்வினை

(C) எதிர்மறைவினை

(D) செயப்பாட்டு வினை

(E) விடை தெரியவில்லை

12. தொடர்வகை அறிந்து சரியான விடையைத் தேர்க.

நேற்று நம் ஊரில் மழைபெய்ததா?

(A) விழைவுத் தொடர்

(B) விளித் தொடர்

~~(C)~~ வினாத் தொடர்

(D) செய்தித் தொடர்

(E) விடை தெரியவில்லை

13. விடைக்கேற்ற வினாவைத் தேர்க.

எல்லா உயிர்கள் மீதும் இரக்கம் கொள்பவரே நேர்மையான வாழ்வு வாழ்பவர் ஆவார்.

(A) எல்லா உயிர்கள் மீதும் இரக்கம் கொள்ள வேண்டுமா?

(B) எது எல்லா உயிர்கள் மீதும் இரக்கம் கொள்ளும்?

~~(C)~~ நேர்மையான வாழ்வு வாழ்பவர் யார்?

(D) நேர்மையான வாழ்வு வாழாதவர் யார்?

(E) விடை தெரியவில்லை

14. விடைக்கேற்ற வினாவை தெரிவு செய்க.

விடை : எறும்பு உயிர்பிழைக்கப் பாடுபடுகிறது.

(A) எறும்பு எப்படி பாடுபடுகிறது?

(B) எறும்பு எதனால் பாடுபடுகிறது?

(C) எறும்பு யாருக்குப் பாடுபடுகிறது?

~~(D)~~ எறும்பு எதற்காகப் பாடுபடுகிறது?

(E) விடை தெரியவில்லை

15. 'இன்னோசை' என்னும் சொல்லைப் பிரித்து எழுதக் கிடைப்பது

(A) இன் + ஓசை

(B) இனி + ஓசை

~~(C)~~ இனிமை + ஓசை

(D) இன் + னோசை

(E) விடை தெரியவில்லை

16. பொருந்திய இணைகளைத் தேர்க.

(பொருந்து - பொருத்து)

I. மின்விசையைப் - பொருந்து

II. நல்லாரோடு - பொருந்து

III. பொருளோடு - பொருத்து

IV. தீயவரைப் - பொருத்து

(A) I மற்றும் II சரி

~~(B)~~ II மற்றும் III சரி

(C) III மற்றும் IV சரி

(D) I மற்றும் IV சரி

(E) விடை தெரியவில்லை

17. சரியான தொடரைத் தேர்ந்தெடுக்க.

- (A) வண்மை யின்மையால் வறுமையில்லையோர்.
- (B) வறுமை இல்லையோர் வண்மையின்மையால்.
- ~~(C)~~ வண்மை யில்லையோர் வறுமையின்மையால்.
- (D) வறுமை இன்மையால் வண்மை இல்லையோர்.
- (E) விடை தெரியவில்லை

18. சொற்களை ஒழுங்குப்படுத்திச் சரியான தொடரைத் தேர்க.

- (A) தமிழரின் விளையாட்டு நாகரிகத்தை உணர்த்தும் ஏறுதழுவுதல்.
- (B) ஏறுதழுவுதல் உணர்த்தும் தமிழரின் நாகரிகத்தை விளையாட்டு.
- ~~(C)~~ ஏறுதழுவுதல் தமிழரின் நாகரிகத்தை உணர்த்தும் விளையாட்டு
- (D) தமிழரின் நாகரிகத்தை விளையாட்டு ஏறுதழுவுதல் உணர்த்தும்
- (E) விடை தெரியவில்லை

19. சொற்களை ஒழுங்குபடுத்தி சொற்றொடராக்குக.

உலகிலுள்ள மனிதப்பிறவி தனித்தன்மை உயிரினங்களுள் உடையது.

- (A) தனித்தன்மை மனிதப்பிறவி உடையது உலகிலுள்ள உயிரினங்களுள்.
- (B) உலகிலுள்ள உயிரினங்களுள் உடையது தனித்தன்மை மனிதப் பிறவி.
- (C) மனிதப் பிறவி தனித்தன்மை உயிரினங்களுள் உலகிலுள்ள உடையது.
- ~~(D)~~ உலகிலுள்ள உயிரினங்களுள் மனிதப்பிறவி தனித்தன்மை உடையது.
- (E) விடை தெரியவில்லை

20. பின்வரும் சொற்களை அகர வரிசைப்படுத்துக.
சங்கு, நுங்கு, பிஞ்சு, வஞ்சம், பட்டணம், சுண்டல், வண்டி
- ~~(A)~~ சங்கு, சுண்டல், நுங்கு, பட்டணம், பிஞ்சு, வஞ்சம், வண்டி
(B) சங்கு, சுண்டல், நுங்கு, பட்டணம், பிஞ்சு, வண்டி, வஞ்சம்
(C) சங்கு, சுண்டல், நுங்கு, பிஞ்சு, பட்டணம், வண்டி, வஞ்சம்
(D) சங்கு, சுண்டல், பிஞ்சு, நுங்கு, பட்டணம், வஞ்சம், வண்டி
(E) விடை தெரியவில்லை

21. கீழ்க்கண்ட சொற்களை அகரவரிசைப்படி சீர் செய்க.
வா, தேன், மலர், பை, நூல்.
- (A) நூல், தேன், மலர், பை, வா (B) தேன், நூல், மலர், வா, பை
(C) நூல், மலர், பை, வா, தேன் ~~(D)~~ தேன், நூல், பை, மலர், வா
(E) விடை தெரியவில்லை

22. 'பிடி' - என்ற சொல்லின் வினையெச்சம் கண்டறிக.
- (A) பிடித்தாள் ~~(B)~~ பிடித்து
(C) பிடித்த (D) பிடித்தல்
(E) விடை தெரியவில்லை

23. "நட" என்னும் வேர்ச் சொல்லின் வினைமுற்று அறிக.
- (A) நடந்த (B) நடந்து
(C) நடத்தல் ~~(D)~~ நடக்கிறது
(E) விடை தெரியவில்லை

24. 'வா' - என்ற சொல்லுக்குரிய பெயரெச்சத்தை கண்டறிக.
- (A) வருதல் (B) வந்தான்
~~(C)~~ வந்த (D) வந்து
 (E) விடை தெரியவில்லை
25. "அறைந்தனன்" வேர்ச்சொல்லைத் தருக.
- ~~(A)~~ அறை (B) அறைந்து
 (C) அறைந்த (D) அறைதல்
 (E) விடை தெரியவில்லை
26. வேர்ச்சொல்லைக் கண்டறிதல்.
 கேட்டார்
- (A) கேல் (B) கேழ்
 (C) கேட்டு ~~(D)~~ கேள்
 (E) விடை தெரியவில்லை
27. 'பேசினாள்' - இதன் வேர்ச்சொல்லை அறிக.
- (A) பேசி (B) பேசிய
~~(C)~~ பேசு (D) பேசியது
 (E) விடை தெரியவில்லை
28. 'இது செய்வாயா?' என்று வினவியபோது, "நீயே செய்" என்று கூறுவது, _____ விடை ஆகும்.
- (A) நேர் விடை ~~(B)~~ ஏவல் விடை
 (C) உறுவது கூறல் விடை (D) சுட்டு விடை
 (E) விடை தெரியவில்லை

29. தானியங்களைக் குறிக்கும் சொல் அல்லாதது
- (A) கூலம் (B) பயறு
(C) முதிரை (D) சிவியல்
(E) விடை தெரியவில்லை
30. ஒலி மற்றும் பொருள் வேறுபாடறிந்து சரியான இணையைத் தெரிவு செய்க.
புல் - புள்
- (A) புல் தரை - ஓரறிவு தாவரம் (B) ஓரறிவு தாவரம் - பறவை
(C) பறவை - புண் (D) அசை - பறவை
(E) விடை தெரியவில்லை
31. ஒலி மற்றும் பொருள் வேறுபாடறிந்து சரியான பொருளைத் தேர்க.
குழை - குலை
- (A) குண்டலம் - காது
(B) குண்டலம் - கொத்து
(C) காது - குண்டலம்
(D) கொத்து - குண்டலம்
(E) விடை தெரியவில்லை
32. ஒலி மற்றும் பொருள் வேறுபாடறிந்து சரியான தொடரைத் தெரிவு செய்க.
- (A) தேர்த் திருவிளாவிற்குச் சென்றனர்.
(B) தேர்த் திருவிழாவிற்குச் சென்றனர்.
(C) தேர்த் திறுவிழாவிற்குச் சென்றனர்.
(D) தேர்த் திருவிழாவிற்குச் சென்றனர்
(E) விடை தெரியவில்லை

33. ஆங்கிலச் சொல்லுக்கு நேரான தமிழ்ச் சொல் அமைந்த இணை எது?

- (A) டெபிட்கார்டு - பற்று அட்டை
(B) கிரெடிட் கார்டு - வரைவோலை
(C) செக் - பணத்தாள்
(D) டிமாண்ட் டிராஃப்ட் - கடன் அட்டை
(E) விடை தெரியவில்லை

34. ஆங்கிலச் சொல்லுக்கு நேரான தமிழ்ச்சொல் அறிதல்.

RATIONAL

- (A) சீர்திருத்தம் (B) பகுத்தறிவு
(C) தத்துவம் (D) ஞானி
(E) விடை தெரியவில்லை

35. Consonant - சரியான தமிழ்ச் சொல்லை எடுத்தெழுதுக.

- (A) உயிரொலி (B) மூக்கொலி
(C) மெய்யொலி (D) சித்திர எழுத்து
(E) விடை தெரியவில்லை

36. பிறமொழி கலவாத தொடரை எடுத்து எழுதுக.

- (A) இன்று ரோபோ பல்வேறு துறைகளிலும் பயன்பாட்டிற்கு வந்துள்ளது.
(B) அதிகாலை விழித்தெழுதல் நல்லது.
(C) கம்பியூட்டர் காலம் இது.
(D) காலிங்பெல்லை அழுத்துங்கள்.
(E) விடை தெரியவில்லை

37. வழுவுச் சொற்களை நீக்கி எழுதுதல்.
கோளிமுட்டை தாவாரத்தில் உருண்டது.
- (A) கோலிமுட்டை தாவாரத்தில் உருண்டது.
(B) கோளிமூட்டை தாவாரத்தில் உருண்டது.
(C) கோழிமுட்டை தாவாரத்தில் உருண்டது.
~~(D)~~ கோழிமுட்டை தாழ்வாரத்தில் உருண்டது.
(E) விடை தெரியவில்லை
38. மரபுப் பிழைகள் (வினை மரபு)
சோறு
- (A) தின் (B) பருகு
(C) குடி ~~(D)~~ உண்
(E) விடை தெரியவில்லை
39. பொருந்தாச் சொல்லைக் கண்டறிதல்.
கண்ணதாசன்
- (A) ஏசுகாவியம் (B) மாங்கனி
(C) ஆட்டனத்தி ஆதிமந்தி ~~(D)~~ வீரத்தாய்
(E) விடை தெரியவில்லை
40. பண்புத் தொகை அல்லாத சொல் தேர்க.
(A) நன்னுதல் (B) மூதூர்
(C) கொடுஞ்செலவு ~~(D)~~ கண்ணுதல்
(E) விடை தெரியவில்லை

41. கீழ்க்கண்டவற்றுள் வேற்றுமை உருபுகள் அடிப்படையில் பொருந்தாதவற்றைக் கண்டறிக.
- ஐ, ஆல், உறு, கு
- (A) கு (B) ஐ
 (C) உறு (D) ஆல்
 (E) விடை தெரியவில்லை
42. பொருந்தாச் சொல்லைக் கண்டறிக.
- (A) பாயிரவியல் (B) இல்லறவியல்
 (C) குடிமையியல் (D) துறவறவியல்
 (E) விடை தெரியவில்லை
43. எதிர்ச்சொல்லைத் தேர்ந்தெடுத்தெழுத்துத் தல்.
- கல்லுண்டு
- (A) கள்ளுண்டு (B) கள்ளில்லை
 (C) கல்லில்லை (D) கல்லலை
 (E) விடை தெரியவில்லை
44. எதிர்ச் சொல்லை எடுத்தெழுத்துத் தல்
- இருநிலம் - எதிர்ச்சொல் தருக.
- (A) பெரிய நிலம் (B) அகன்ற நிலம்
 (C) பரந்த நிலம் (D) சிறிய நிலம்
 (E) விடை தெரியவில்லை

45. சோம்பல் - என்ற சொல்லுக்குரிய பொருத்தமான எதிர்ச்சொல்லை எழுதுக.

(A) அழிவு

(B) துன்பம்

(C) சோகம்

~~(D) சுறுசுறுப்பு~~

(E) விடை தெரியவில்லை

46. இன்பு + உருகு - என்பதனைச் சேர்த்தெழுதக் கிடைக்கும் சொல்

(A) இன்புஉருகு

(B) இன்பும்உருகு

~~(C) இன்புருகு~~

(D) இன்பருகு

(E) விடை தெரியவில்லை

47. சேர்த்து எழுதுக : ஓடை + எல்லாம்

(A) ஓடை எல்லாம்

~~(B) ஓடையெல்லாம்~~

(C) ஓட்டையெல்லாம்

(D) ஓடெல்லாம்

(E) விடை தெரியவில்லை

48. சேர்த்தெழுதுக :

கால் + இறங்கி

(A) கால்லிறங்கி

~~(B) காலிறங்கி~~

(C) கால்இறங்கி

(D) கால்றங்கி

(E) விடை தெரியவில்லை

கீழ்க்கண்ட பத்தியினைப் படித்து வினாவிற்கான சரியான விடையை தேர்ந்தெடு :

விக்ரம் சாராபாய் 'இந்திய விண்வெளித்திட்டத்தின் தந்தை' என்று அழைக்கப்படுகிறார். ஆரியபட்டா என்ற முதல் செயற்கைக்கோள் ஏவுதலுக்குக் காரணமானவர். செயற்கைக்கோள் உதவியுடன் தொலைக்காட்சி வழியாக 24000 இந்திய கிராமங்களில் உள்ள ஐம்பது இலட்சம் மக்களுக்குக் கல்வியை எடுத்துச் செல்ல உதவினார். இவரின் பெயரால் 'விக்ரம் சாராபாய் விண்வெளி மையம்' திருவனந்தபுரத்தில் செயல்பட்டு வருகிறது. இவருடைய முயற்சியால் தான் 'இஸ்ரோ' தொடங்கப்பட்டது. டாக்டர். அப்துல்கலாம் 11-வது குடியரசுத் தலைவராகப் பணியாற்றிய இந்திய அறிவியலாளர்; தமிழ்நாட்டின் இராமேசுவரத்தைச் சேர்ந்தவர். ஏவுகணை, ஏவுகணை ஏவு ஊர்தித் தொழில்நுட்ப வளர்ச்சியில் கலாம் காட்டிய ஈடுபாட்டினால் இவர் 'இந்திய ஏவுகணை நாயகன்' என்று போற்றப்படுகின்றார். இந்தியாவின் உயரிய விருதான பாரதரத்னா விருது பெற்றவர். இவர் தம் பள்ளிக் கல்வியை தமிழ்மழியில் கற்றவர் என்பது குறிப்பிடத்தக்கது.

49. 'விக்ரம் சாராபாய் விண்வெளி மையம்' எங்கு செயல்பட்டு வருகிறது?

- (A) பெங்களூரு (B) ஐதராபாத்
(C) திருவனந்தபுரம் (D) ஸ்ரீஹரிகோட்டா
(E) விடை தெரியவில்லை

50. 'இந்திய விண்வெளித்திட்டத்தின் தந்தை' என்று அழைக்கப்படுபவர் யார்?

- (A) அப்துல் கலாம் (B) விக்ரம் சாராபாய்
(C) மயில்சாமி அண்ணாதுரை (D) சிவன்
(E) விடை தெரியவில்லை

51. இந்தியாவின் 11-வது குடியரசுத் தலைவராக பணியாற்றிய இந்திய அறிவியலாளர் யார்?

- (A) விக்ரம் சாராபாய் (B) அப்துல்கலாம்
(C) டாக்டர் முத்துலட்சுமி (D) கல்பனா சாவ்லா
(E) விடை தெரியவில்லை

52. இந்திய ஏவுகணை நாயகன் தம் பள்ளிக்கல்வியை எவ்வழியில் படித்தார்?

- (A) ஆங்கிலம் ~~(B) தமிழ்~~
(C) ஜெர்மன் (D) இந்தி
(E) விடை தெரியவில்லை

53. விக்ரம் சாராபாய் ஏவிய செயற்கைகோள் எதற்கு பயன்பட்டது?

- ~~(A) கல்வி~~ (B) வானவியல்
(C) தட்பவெப்பம் (D) புவியியல் வரைபடம்
(E) விடை தெரியவில்லை

54. ஒருமை, பன்மை பிழை அறிந்து சரியான தொடரைத் தேர்ந்தெடுக்க.

- (A) உயர்ந்தோர் தன்னைத்தானே புகழ்ந்து கொள்ளமாட்டார்கள்.
(B) சிறுவன் தமது கையில் புத்தகம் வைத்திருந்தான்
~~(C) நாய் தனது தலையை ஆட்டியது.~~
(D) குழந்தைகள் தன்னால் இயன்ற உதவிகளைப் பிறருக்கு செய்கின்றனர்.
(E) விடை தெரியவில்லை

55. ஒருமைப் பன்மைப் பிழையற்ற தொடர் எது?

- (A) மாங்காய்கள் மட்டுமே வடுப்படுகிறது
~~(B) மாங்காய்கள் மட்டுமே வடுப்படுகின்றன~~
(C) மாங்காய் மட்டுமே வடுப்படுகின்றன
(D) மாங்காய்கள் மட்டுமே வடுவாகிறது
(E) விடை தெரியவில்லை

56. ஒருமைப் பன்மைப் பிழையற்ற தொடரைத் தேர்ந்தெடுக்க.

- ~~(A)~~ நான் பாடத்தைப் படித்தேன் (B) நாம் பாடத்தைப் படித்தேன்
(C) நாங்கள் பாடத்தைப் படித்தான் (D) நான் பாடத்தைப் படித்தான்
(E) விடை தெரியவில்லை

57. சொல்-பொருள்-பொருத்துக

- (a) மருப்பு (1) தேங்காய்
(b) மடுத்து (2) பலாப்பழம்
(c) வருக்கை (3) பாய்ந்து
(d) தெங்கு (4) கொம்பு

- | | (a) | (b) | (c) | (d) |
|----------------|-----|-----|-----|-----|
| (A) | 2 | 3 | 4 | 1 |
| (B) | 4 | 1 | 2 | 3 |
| (C) | 4 | 3 | 2 | 1 |
| (D) | 1 | 4 | 3 | 2 |
- (E) விடை தெரியவில்லை

58. சரியான பொருள்தரும் இணையைத் தேர்க

- ~~(A)~~ பொக்கிஷம் — செல்வம்
(B) சாஸ்தி — பெரும் பரப்பு
(C) விஸ்தாரம் — அழகு
(D) சிங்காரம் — மிகுதி
(E) விடை தெரியவில்லை

59. சொல்-பொருள்-பொருத்துக

- | | |
|-------------|--------------|
| (a) நவிலல் | (1) உலகம் |
| (b) வையகம் | (2) நெருப்பு |
| (c) இயற்றுக | (3) சொல்லல் |
| (d) தணல் | (4) செய்க |

- | | (a) | (b) | (c) | (d) |
|----------------|------------------|-----|-----|-----|
| (A) | 3 | 4 | 2 | 1 |
| (B) | 1 | 3 | 4 | 2 |
| (C) | 4 | 1 | 2 | 3 |
| (D) | 3 | 1 | 4 | 2 |
| (E) | விடை தெரியவில்லை | | | |

60. கீழ்க்காணும் தொடரில் உள்ள பிழைகளைத் திருத்தி எழுதுக
ஒரு அழகிய சிற்றூரில் ஓர் குளம் இருந்தது.

- (A) அது அழகிய சிற்றூரில் ஓர் குளம் இருந்தது
~~(B)~~ ஓர் அழகிய சிற்றூரில் ஒரு குளம் இருந்தது
(C) அழகிய சிற்றூரில் ஓர் குளம் இருந்தது
(D) அது அழகிய சிற்றூரில் ஒரு குளம் இருந்தது
(E) விடை தெரியவில்லை

61. பிழை திருத்துதல் (ஒரு - ஓர்)

கீழ்க்காணும் தொடர்களில் ஒரு-ஓர் சரியாக அமைந்த தொடர் எது?

- (A) குறுந்தொகை ஒரு அக இலக்கிய நூலாகும்; ஒரு பாடல் மனிதத்தை உணர்த்துகிறது
(B) குறுந்தொகை ஓர் அக இலக்கிய நூலாகும்; ஓர் பாடல் மனிதத்தை உணர்த்துகிறது
(C) குறுந்தொகை ஒரு அக இலக்கிய நூலாகும்; ஓர் பாடல் மனிதத்தை உணர்த்துகிறது
~~(D)~~ குறுந்தொகை ஓர் அக இலக்கிய நூலாகும்; ஒரு பாடல் மனிதத்தை உணர்த்துகிறது
(E) விடை தெரியவில்லை

62. சரியான தொடரைத் தேர்ந்தெடுத்து எழுதுக.
- (A) ஒரு ஊரில் ஒரு அரசன் இருந்தான்
 (B) ஓர் ஊரில் ஒரு அரசன் இருந்தான்
~~(C)~~ ஓர் ஊரில் ஓர் அரசன் இருந்தான்
 (D) ஒரு ஊரில் ஓர் அரசன் இருந்தான்
 (E) விடை தெரியவில்லை
63. பின்வருவனவற்றுள் சரியான தொடரைத் தேர்ந்தெடு
- (A) தமிழர் பண்பாட்டில் தனித்த வாழை இலைக்கு இடமுண்டு
 (B) தமிழர் வாழை இலைக்குப் பண்பாட்டில் தனித்த இடமுண்டு
~~(C)~~ தமிழர் பண்பாட்டில் வாழை இலைக்குத் தனித்த இடமுண்டு
 (D) தமிழர் வாழை பண்பாட்டில் தனித்த இலைக்கு இடமுண்டு
 (E) விடை தெரியவில்லை
64. உள்ளே பேசிக்கொண்டிருப்பவர் யார்? – இது எவ்வகைத் தொடர்
- (A) உணர்ச்சித் தொடர்
 (B) கட்டளைத் தொடர்
 (C) செய்தித் தொடர்
~~(D)~~ வினாத் தொடர்
 (E) விடை தெரியவில்லை
65. கொடுக்கப்பட்டுள்ள சொல்லின் சரியான கூட்டுப் பெயரை தெரிவு செய்க.
 கரும்பு
- (A) கரும்புக் காடு
~~(B)~~ கரும்புத் தோட்டம்
 (C) கரும்புத் தோப்பு
 (D) கரும்பு குவியல்
 (E) விடை தெரியவில்லை

66. பொருத்தமானத் தொடரை எழுதுக
ஜெயகாந்தனின் “இமயத்துக்கு அப்பால்” என்ற நூல் பெற்ற விருது
(A) ஞானபீட விருது (B) தாமரைத்திரு விருது
(C) சோவியத் நாட்டு விருது (D) சாகித்யா அகாதமி விருது
(E) விடை தெரியவில்லை
67. பொருத்தமான பொருளைத் தெரிவுசெய்க.
“தேவதுந்துபி” என்றழைக்கப்படும் இசைக் கருவியின் வேறு பெயர்?
(A) நாகசுரம் (B) உறுமி
(C) சலங்கை (D) வீணை
(E) விடை தெரியவில்லை
68. சொற்பொழிவாற்றுவது போன்ற ஓசை
(A) அகவலோசை (B) செப்பலோசை
(C) துள்ளலோசை (D) தூங்கலோசை
(E) விடை தெரியவில்லை
69. பராபரமே என்பதன் பொருள்
(A) மேலான பொருளே (B) முத்தி
(C) எங்கும் நிறைந்த (D) இறைநிலை
(E) விடை தெரியவில்லை
70. கலைச்சொல் அறிதல்
MISSILE
(A) வானூர்தி (B) ஏவு ஊர்தி
(C) ஏவுகணை (D) எழுத்தாணி
(E) விடை தெரியவில்லை

71. பின்வரும் கலைச்சொல்லின் பொருளறிந்து சரியான விடையைத் தேர்க.

Infrared rays

- (A) அகச்சிவப்புக் கதிர்கள் (B) புறஊதாக் கதிர்கள்
(C) விண்வெளிக் கதிர்கள் (D) ஊடுகதிர்கள்
(E) விடை தெரியவில்லை

72. கூற்றும், காரணமும் - சரியா? தவறா?

கூற்று : குயில் கத்தும் என்பது மரபு வழி ஆகும்.

காரணம் : குயில் கூவும் என்பதே மரபு

- (A) கூற்று : தவறு ; காரணம் : சரி (B) கூற்று : சரி ; காரணம் : சரி
(C) கூற்று : சரி ; காரணம் : தவறு (D) கூற்று : தவறு ; காரணம் : தவறு
(E) விடை தெரியவில்லை

73. கூற்றும், காரணமும் - சரியா? தவறா?

கூற்று : மதுரை சென்றார் - வேற்றுமைத் தொகை

காரணம் : 'கு' என்னும் வேற்றுமை உருபு இல்லை

- (A) கூற்றும் காரணமும் சரி (B) கூற்று சரி காரணம் தவறு
(C) கூற்று தவறு காரணம் சரி (D) கூற்றும் காரணமும் தவறு
(E) விடை தெரியவில்லை

74. கூற்றும், காரணமும் - சரியா? தவறா?

கூற்று : இறைவன் கடம்பவனக் கோவிலை விட்டு நீங்கினார்

காரணம் : மன்னன் இடைக்காடனாரை அவமதித்தான்

- (A) கூற்று, காரணம் இரண்டும் தவறு (B) காரணம் மட்டும் சரி; கூற்று தவறு
(C) கூற்று, காரணம் இரண்டும் சரி (D) கூற்று மட்டும் சரி; காரணம் தவறு
(E) விடை தெரியவில்லை

75. இரு பொருள் தருக:

நகை

(A) நதி, எண்

~~(B)~~ புன்னகை, ஆபரணம்

(C) ஓடுதல், மேற்கூரை

(D) நிலவு, மாதம்

(E) விடை தெரியவில்லை

76. இருபொருள் தருக:

திங்கள்

(A) நாள், ஆண்டு

~~(B)~~ மாதம், நிலவு

(C) வறுமை, நோய்

(D) கிழமை, துன்பம்

(E) விடை தெரியவில்லை

77. இருபொருள் தரும் தவறான இணையைத் தேர்ந்தெடு.

(A) இடர், துன்பம்

(B) நெறி, வழி

(C) பொன்னகை, அணிகலன்

~~(D)~~ வாயு, நெருப்பு

(E) விடை தெரியவில்லை

78. அடைப்புக்குள் உள்ள சொல்லைத் தகுந்த இடத்தில் சேர்க்க (கல்வி வளர்ச்சி நாள்)

(A) அண்ணாவின் பிறந்த நாள்

(B) அப்துல்கலாம் பிறந்த நாள்

(C) விவேகானந்தர் பிறந்த நாள்

~~(D)~~ காமராசர் பிறந்த நாள்

(E) விடை தெரியவில்லை

79. அடைப்புக்குள் கொடுக்கப்பட்டுள்ள சொல்லை பொருத்தமான தொடரில் சேர்க்க (பந்தர்)
- (A) ————— என்பது முற்றுப்போலி
 (B) ————— என்பது இடைப்போலி
~~(C)~~ ————— என்பது கடைப்போலி
 (D) ————— என்பது முதற்போலி
 (E) விடை தெரியவில்லை
80. இணைப்புச்சொல் அடிப்படையில் பொருந்தாததைத் தேர்ந்தெடுக்க.
- (A) அதனால் ~~(B)~~ அவனால்
 (C) அதுபோல (D) எனவே
 (E) விடை தெரியவில்லை
81. சரியான இணைப்புச் சொல்லைப் பயன்படுத்தி வாக்கியம் அமை.
 நாளை புயல் கரையைக் கடக்கிறது. மீனவர்கள் கடலுக்குச் செல்ல வேண்டாம்.
- (A) நாளை புயல் கரையைக் கடப்பதால் மீனவர் கடலுக்குச் செல்ல வேண்டாம்
~~(B)~~ நாளை புயல் கரையைக் கடக்கிறது. எனவே மீனவர்கள் கடலுக்குச் செல்ல வேண்டாம்
 (C) நாளை புயல் கரையைக் கடக்கிறது ஏனெனில் மீனவர்கள் கடலுக்குச் செல்ல வேண்டாம்
 (D) நாளை புயல் கரையைக் கடக்கப் போவதால் மீனவர்கள் கடலுக்குச் செல்ல வேண்டாம்
 (E) விடை தெரியவில்லை
82. சரியான வினாச் சொல்லைத் தேர்ந்தெடு.
- (A) அங்கு (B) இங்கு
~~(C)~~ எங்கு (D) உண்டு
 (E) விடை தெரியவில்லை

83. சரியான வினாச்சொல்லைத் தேர்ந்தெடு
வட்டாரமொழி எனப்படுவது _____?
- (A) யாவை? (B) எவை?
(C) யாது? (D) எவை? எவை?
(E) விடை தெரியவில்லை

84. சரியான வினாச்சொல்லால் நிரப்புக.
தமிழரின் வீர விளையாட்டு _____
- (A) யார்? (B) ஏன்?
(C) எங்கு? (D) எது?
(E) விடை தெரியவில்லை

85. சரியான வினாச் சொல்லைத் தேர்ந்தெடு.
_____ சொற்களைப் பேச வேண்டும்?
- (A) எத்தகைய
(B) யாரால்
(C) எவை
(D) எதனால்
(E) விடை தெரியவில்லை

86. பொருத்தமான காலம் அமைத்தல்

சரியான தொடரைத் தேர்ந்தெடு

- (A) ஆங்கிலேயப் படைகள் மலேயாவில் ஜப்பானியரிடம் சரணடைகிறது (எதிர்காலம்)
- (B) ஆங்கிலேயப் படைகள் மலேயாவில் ஜப்பானியரிடம் சரணடைந்து கொண்டிருக்கின்றன (இறந்த காலம்)
- (C) ஆங்கிலேயப் படைகள் மலேயாவில் ஜப்பானியரிடம் சரணடையும் (நிகழ்காலம்)
- ~~(D)~~ ஆங்கிலேயப் படைகள் மலேயாவில் ஜப்பானியரிடம் சரணடைந்தன (இறந்த காலம்)
- (E) விடை தெரியவில்லை

87. கீழ்க் கண்டச் சொல் எந்தக் காலத்தை குறிக்கும்

நடந்தான்

- (A) நிகழ்காலம் (B) எதிர் காலம்
- ~~(C)~~ இறந்த காலம் (D) கார் காலம்
- (E) விடை தெரியவில்லை

88. இரு சொற்களின் சரியான புதிய சொற்களைத் தெரிவு செய்க.

மா, சிட்டு, கனி, இலை, தேன், மரம், கூடு, குருவி

- ~~(A)~~ சிட்டுக்குருவி, மாவிலை, தேன் கூடு
- (B) இலைமரம், மரஇலை, மாசிட்டு
- (C) தேன்மரம், மாவிலை, கனிமரம்
- (D) குருவிக்கூடு, தேன்குருவி, மாவிலை
- (E) விடை தெரியவில்லை

89. சொற்களை இணைத்துப் புதிய சொல் உருவாக்குக
மா
- (A) மலர் (B) ~~மரம்~~
(C) சிட்டு (D) முட்டை
(E) விடை தெரியவில்லை
90. சரியான எழுத்து வழக்குச் சொல்லைக் கண்டுபிடி.
(A) நாய் ஊளையிடும் (B) ~~நாய் குரைக்கும்~~
(C) நாய் கத்தும் (D) நாய் அழும்
(E) விடை தெரியவில்லை
91. பேச்சு வழக்குச் சொற்களற்ற பழமொழியைத் தேர்க.
(A) அத விட்டாலும் கெதி இல்ல, அப்பால போனாலும் விதி இல்ல
(B) அள்ளுவன் பக்கத்தில் இருந்தாலும் கிள்ளுவன் பக்கத்தில் இருக்கக் கூடாது
(C) அம்மாசி இருட்டில பெருச்சாளிக்குப் போன இடமெல்லாம் வழிதான்
(D) ~~அகழியில் விழுந்த முதலைக்கு அதுவே சொர்க்கம்~~
(E) விடை தெரியவில்லை
92. பேச்சு வழக்கிற்கு இணையான எழுத்து வழக்குச் சொல் பொருத்தமானதைத் தேர்க.
(A) உங்கருக்கே - உங்க ஊருக்கே
(B) வெரசா - விரைவா
(C) ~~மூணு வயசு~~ - மூன்று வயது
(D) இருக்குது - இருக்கு
(E) விடை தெரியவில்லை

93. சரியான நிறுத்தற்குறியிடப்பட்ட தொடரைத் தேர்க.

- ~~(A)~~ கூட்டத்தின் தலைவர், “அறிஞர் அண்ணா அவர்கள் இப்போது ‘தலைப்பில்லை’ என்னும் தலைப்பில் பேசுவார்” என்று அறிவித்தார்.
- (B) அந்தோ? இயற்கை அழிகிறதே?
- (C) தமிழின் இனிமைதான் என்னே?
- (D) குழந்தை நிலாவைப் பார்த்து, ‘நிலா நிலா ஓடிவா’ என்று பாடியது.
- (E) விடை தெரியவில்லை

94. நிறுத்தற்குறி அறிக. (எது சரியானது)

- ~~(A)~~ . தமிழின் இனிமைதான் என்னே!
- (B) கல்வியே மனிதனின் வாழ்வை உயர்த்தும்?
- (C) சேக்கிழார் எழுதிய நூல் எது!
- (D) அந்தோ, ‘இயற்கை அழிகிறதே’.
- (E) விடை தெரியவில்லை

95. சோழ நாடு என்பதன் மரூஉப் பெயர்

- ~~(A)~~ சோணாடு (B) சோநாடு
- (C) சோழாடு (D) சேணாடு
- (E) விடை தெரியவில்லை

96. ஊர்ப்பெயர்களின் மரூஉவை எழுதுக.

உதகமண்டலம்

- (A) கோவை (B) மன்னை
- ~~(C)~~ ஊட்டி (D) சைதை
- (E) விடை தெரியவில்லை

97. மருஉப் பெயர்

பொருத்தமான இணையைத் தேர்க.

- ~~(A)~~ புதுச்சேரி - புதுவை
(B) திருநெல்வேலி - வேலி
(C) நாகூர் - நாகை
(D) கோயம்புத்தூர் - புத்தூர்
(E) விடை தெரியவில்லை

98. கையில் மிச்சம் உள்ள தங்கக்கட்டி வெயிட் குறைவானது

-இத்தொடரில் 'வெயிட்' என்ற சொல்லின் இணையான தமிழ்ச்சொல்

- (A) சுமை (B) கிராம்
(C) அளவு ~~(D)~~ எடை
(E) விடை தெரியவில்லை

99. 'COMPACT DISK'- என்ற வார்த்தைக்கு இணையான தமிழ்ச் சொல் தருக.

- (A) மின்நூல் (B) மின் இதழ்கள்
~~(C)~~ குறுந்தகடு (D) சில்லுகள்
(E) விடை தெரியவில்லை

100. ரெடிமேட் டிரஸ் - என்பதற்கு இணையான தமிழ்ச் சொல் தேர்க.

- (A) தயார் ஆடை (B) தையல் ஆடை
~~(C)~~ ஆயத்த ஆடை (D) கைத்தறி ஆடை
(E) விடை தெரியவில்லை

பகுதி-ஆ (பொது அறிவு)

Part-B (General Studies)

வினாக்கள் : 101-200

மொத்த மதிப்பெண்கள் : 150

Questions : 101-200

Total Marks : 150

101. Assertion [A] : Palai is one of the habitable regions.

கூற்று [A] : பாலை நிலமானது குடியிருக்கத்தக்க நிலப்பரப்பு ஆகும்.

Reason [R] : The people of palai domesticated animals.

காரணம் [R] : பாலை நிலத்து மக்கள் விலங்குகளை வளர்த்தனர்.

(A) [A] and [R] are true

[A] மற்றும் [R] சரி

~~(B)~~ [A] is true, but [R] is false

[A] சரி ஆனால் [R] தவறு

(C) [A] is false, but [R] is true

[A] தவறு ஆனால் [R] சரி

(D) Both [A] and [R] are true but [R] is not the correct explanation of [A]

[A] மற்றும் [R] சரி, ஆனால் [R], [A]-விற்கான சரியான விளக்கம் அல்ல

(E) Answer not known

விடை தெரியவில்லை

102. Which statements are correct as far as Justice Party was is concerned?

நீதிக்கட்சியைப் பொருத்தமட்டில் எந்தக் கூற்றெல்லாம் சரியானவை?

(i) It sought to do away with corruption in religious endowments.

நீதிக்கட்சி சமயங்களுக்கான மானியங்களில் நடைபெறக் கூடிய ஊழலை முடிவிற்கு கொண்டுவர முற்பட்டது.

(ii) Primary education was extended to depressed classes through fee concession.

பின்தங்கிய வகுப்பினருக்கு கட்டண சலுகையில் தொடக்கக் கல்வியை நீட்டித்தது.

(iii) Provided credit to small industries.

சிறு தொழில்களுக்கு கடன் வழங்கியது.

(iv) Claimed reservation for Muslims.

முஸ்லீம்களுக்கான தனி ஒதுக்கீட்டை கோரியது.

(A) (i) and (iii) are correct

(i) மற்றும் (iii) சரி

(B) (iii) and (iv) are correct

(iii) மற்றும் (iv) சரி

~~(C)~~ (i) and (ii) are correct

(i) மற்றும் (ii) சரி

(D) (iv) only correct

(iv) மட்டும் சரி

(E) Answer not known

விடை தெரியவில்லை

103. 'Nil Darpan', a play portrayed Indigo planters oppression, was written by

“நில் தர்பான்” என்ற இன்டிகோ தோட்டக்காரர்களின் எதிர்ப்பை சித்தரிக்கும் நூலை எழுதியவர்

~~(A)~~ Dinbandhu Mitra
தீன்பந்த் மித்ரா

(B) Debi Singh
தீபி சிங்

(C) Dadabhai Naoroji
தாதாபாய் நௌரோஜி

(D) Diodorus
டியோடோரஸ்

(E) Answer not known
விடை தெரியவில்லை

104. Who appreciated Thirukkural as follows:- “Anuvai Thulaitthu Ezhkadal pugatti kurugga tharitha kural”?

“அணுவைத் துளைத்து ஏழ் கடலைப் புகட்டிக் குறுகத் தறித்த குறள்” என்று பாடியவர் யார் ?

(A) Kalladar
கல்லாடர்

~~(B)~~ Avvaiyaar
ஔவையார்

(C) Thirumoolar
திருமூலர்

(D) Manakkudavar
மணக்குடவர்

(E) Answer not known
விடை தெரியவில்லை

105. Identify the wrong statement about 'Aazhvaargal' from the options given.

கீழ்க்காணும் கூற்றுகளில் ஆழ்வார்கள் பற்றிய செய்திகளில் ஒரு செய்தி தவறாகக் குறிப்பிடப்பட்டுள்ளதை எழுதுக.

- (A) 'Painthamizh Pinchendra Pachchai Pasunkondale'. In this line, Kumarakurubarar Praises Thirumazhisai Aazhvaar.
குமரகுருபரர் தனது பாடலில் 'பைந்தமிழ்ப் பின்சென்ற பச்சைப் பசங்கொண்டலே' என்று திருமழிசை ஆழ்வாரைப் புகழ்கிறார்
- (B) Nammazhvaar is called Sadagobar for he won over 'Vayu' alais 'sadam'
நம்மாழ்வார் சடம் என்னும் வாயுவை சினந்து அடக்கியமையால் சடகோபர் என அழைக்கப்படுகிறார்
- ~~(C)~~ Kulasegarazhvaar has written the poem 'Kanninun'sirudhambu' on Nammazhvaar.
குலசேகராழ்வார் நம்மாழ்வார்மேல் கண்ணிருண்சிறுதாம்பு என்னும் பாடலைப் பாடியுள்ளார்
- (D) Periyazhvaar is also called 'Pattabiraan'
பெரியாழ்வார் பட்டர்பிரான் என அழைக்கப்படுகிறார்
- (E) Answer not known
விடை தெரியவில்லை

106. Fill in the blanks :

Viththum Italventum kollo _____

கோடிட்ட இடத்தை நிரப்புக

வித்தும் இடல்வேண்டும் கொல்லோ _____

- (A) Virundhombi Michchil Misaivaan Pulam
விருந்தோம்பி மிச்சில் மிசைவான் புலம்
- (B) Matraiyaan Sethaarul Vaikka Padum
மற்றையான் செத்தாருள் வைக்கப்படும்
- (C) Thakkarkku Velaanmai Seithar Poruttu
தக்கார்க்கு வேளாண்மை செய்தற் பொருட்டு
- (D) Sakkadum Viththagarkku Kallal Aridhu
சாக்காடும் வித்தகர்க் கல்லால் அரிது
- (E) Answer not known
விடை தெரியவில்லை

107. The Government of Tamil Nadu is committed in empowering the differently-abled persons for the reservation in employment by _____%.

மாற்றுத் திறனாளிகளுக்கான வேலைவாய்ப்பு ஒதுக்கீட்டில் தமிழக அரசு _____ சதவீதம் அளித்து உறுதி செய்துள்ளது.

- (A) 1 (B) 2
- (C) 3 (D) 4
- (E) Answer not known
விடை தெரியவில்லை

108. Reason and Assertion type.

Assertion [A] : VeluNachiyar is called India's 'Joan of Arc'

வலியுறுத்தல் [A] : வேலுநாச்சியார் இந்தியாவின் 'ஜோன் ஆப் ஆர்க்' என்றழைக்கப்படுகிறார்

Reason [R] : She was a great warrior who fought against British

காரணம் [R] : அவர் மிகச் சிறந்த வீரமிக்கவராக ஆங்கில அரசுக்கு எதிராக போரிட்டார்.

(A) [A] is true, but [R] is false

[A] என்பது உண்மை ஆனால் [R] என்பது தவறு

~~(B)~~ Both [A] and [R] are true and [R] is the correct explanation of [A]

[A] மற்றும் [R] இவை இரண்டும் உண்மை மற்றும் [R] என்பது [A]-விற்கான சரியான விளக்கம்.

(C) [A] is false [R] is true

[A] என்பது தவறு, [R] என்பது உண்மை

(D) Both [A] and [R] are true but [R] is not the correct explanation of [A]

[A] மற்றும் [R] இவை இரண்டும் உண்மை ஆனால் [R] என்பது [A]-விற்கான சரியான விளக்கம் அல்ல

(E) Answer not known

விடை தெரியவில்லை

109. Who wrote the literature piece titled "Thirukkural Neethi Ilakkiyam" which has also won the Sahithya Akademy Award?

'திருக்குறள் நீதி இலக்கியம்' - எனும் சாகித்ய அகாடமி பரிசு பெற்ற நூலின் ஆசிரியர்

~~(A)~~ Ka. tha. Thirunavukkarasu

க.த. திருநாவுக்கரசு

(B) V. C. Kulandaiswamy

வா.செ. குழந்தைசாமி

(C) K. A. Neelakanda Sasthri

கே.ஏ. நீலகண்டசாஸ்திரி

(D) A. Sa. Gnanasambandan

அ.ச. ஞானசம்பந்தன்

(E) Answer not known

விடை தெரியவில்லை

110. Assertion and Reasoning questions

Assertion [A] : Women's liberation was one of the important objectives of the Self-Respect Movement.

கூற்று [A] : சுய மரியாதை இயக்கத்தின் முக்கிய நோக்கங்களில் ஒன்று பெண் விடுதலையும் ஆகும்.

Reason [R] : The Movement provided a space for women to share their ideas

காரணம் [R] : பெண்கள் தங்கள் கருத்துக்களைப் பகிர்ந்து கொள்ள இந்த இயக்கம் ஒரு இடத்தை வழங்கியது.

(A) Both [A] and [R] are wrong

[A] மற்றும் [R] தவறு.

(B) [A] is correct but [R] is wrong

[A] மட்டும் சரி [R] தவறு.

(C) Both [A] and [R] are correct; but [R] is not the correct explanation of [A]

[A] மற்றும் [R] சரி [R] [A] உடைய சரியான விளக்கமல்ல.

~~(D)~~ Both [A] and [R] are correct, and [R] is the correct explanation of [A]

[A] மற்றும் [R] சரி, [R] [A] உடைய சரியான விளக்கமாகும்.

(E) Answer not known

விடை தெரியவில்லை

111. Who is the Author of "Aasarakkovai"?

“ஆசார்க்கோவை” என்ற நூலின் ஆசிரியர் யார்?

- (A) Poothanjsenthanar
பூதஞ்சேந்தனார்
- (B) Pullangkadanar
புல்லங்காடனார்
- (C) Poigaiyar
பொய்கையார்
- ~~(D)~~ Peruvayin Mullaiyar
பெருவாயில் முள்ளியார்
- (E) Answer not known
விடை தெரியவில்லை

112. Among the pillaitamil paruvangal which one is suitable for the age "Ammanai"?

பிள்ளைத் தமிழ்ப் பருவங்களுள் ‘அம்மாணை’ பருவத்திற்குரிய காலம் எது?

- (A) 17 - 18
- ~~(B)~~ 19 - 20
- (C) 21 - 22
- (D) 23 - 24
- (E) Answer not known
விடை தெரியவில்லை

113. Which policy weakened the central authority of the Delhi Sultanate?

எந்த கொள்கை டெல்லி சுல்தானியரின் மைய அதிகாரத்தை வலுவிழக்க வைத்தது?

- (A) Jagir system
ஜாகீர் நிலமானியமுறை
- (B) Blundering policy
தவறிழைத்தல் கொள்கை
- (C) Plundering policy
கொள்ளையிடல் கொள்கை
- (D) Murdering policy
கொலைக் கொள்கை
- (E) Answer not known
விடை தெரியவில்லை

114. Name the ruler who was called as 'Akbar of Kashmir ' among Delhi Sultanate rulers.

டில்லி சுல்தானிய மன்னர்களில் 'காஷ்மீரின் அக்பர்' என்றழைக்கப்பட்டவரின் பெயரைக் குறிப்பிடுக.

- (A) Zain-ud-Abidin
ஜியாவுதின் அபிதின்
- (B) Husain Shah
ஹுசைன் ஷா
- (C) Shah Mirza
ஷா மிர்சா
- (D) Jalol-ud-din
ஜலாலுதின்
- (E) Answer not known
விடை தெரியவில்லை

115. Who ascended the throne after the death of Aurangzeb in 1707?

1707 ல் ஒளரங்கசீப் இறப்பிற்கு பின் அரியணை ஏறியவர் யார்?

~~(A)~~ Bahadur Shah I

பகதூர் ஷா I

(B) Farukh Shiyar

ஃபரூக் ஷியர்

(C) Muhammad Kam

முகம்மது காம்

(D) Alam Shah

அலாம் ஷா

(E) Answer not known

விடை தெரியவில்லை

116. At what rate percentage p.a. will Rs. 5625 amount to Rs. 6084 in 2 years at compound interest?

எந்த கூட்டு வட்டி வீதத்தில் ₹ 5625 ஆனது 2 ஆண்டுகளில் ₹ 6084 ஆக மாறும்?
(வட்டி ஆண்டுக்கு ஒரு முறை)

(A) 2 %

(B) 2.08 %

~~(C)~~ 4 %

(D) 4.08 %

(E) Answer not known

விடை தெரியவில்லை

117. When two dice are rolled, what is the probability that the sum of the faces added up is less than 9?

இரு பகடைகள் உருட்டப்படும்போது கிடைக்கும் எண்களின் கூடுதல் 9 ஐ விடச் சிறியதாக இருக்க நிகழ்தகவு என்ன?

(A) $\frac{13}{36}$

(B) $\frac{18}{36}$

~~(C)~~ $\frac{13}{18}$

(D) $\frac{12}{18}$

(E) Answer not known
விடை தெரியவில்லை

118. The value of $4 + 1 + \frac{1}{4} + \dots + \infty$ is

$4 + 1 + \frac{1}{4} + \dots + \infty$ ன் மதிப்பு

~~(A)~~ $\frac{16}{3}$

(B) $\frac{4}{3}$

(C) $\frac{32}{3}$

(D) $\frac{64}{3}$

(E) Answer not known
விடை தெரியவில்லை

119. The length and breadth of a rectangular plot are 5×10^5 and 4×10^4 metres respectively. Find the area of a rectangle.

ஒரு செவ்வக வடிவ வீட்டு மனையின் நீளம் மற்றும் அகலங்கள் முறையே 5×10^5 m மற்றும் 4×10^4 m எனில் அதன் பரப்பு காண்க.

- (A) $9 \times 10^1 m^2$ (B) $9 \times 10^9 m^2$
 $9 \times 10^1 \text{ மீ}^2$ $9 \times 10^9 \text{ மீ}^2$
~~(C)~~ $2 \times 10^{10} m^2$ (D) $20 \times 10^{20} m^2$
 $2 \times 10^{10} \text{ மீ}^2$ $20 \times 10^{20} \text{ மீ}^2$
 (E) Answer not known
 விடை தெரியவில்லை

120. Find the sum of the following $6 + 13 + 20 + \dots + 97$

பின்வருவனவற்றில் கூடுதல் காண்க.

$$6 + 13 + 20 + \dots + 97$$

- ~~(A)~~ 721 (B) 724
 (C) 727 (D) 750
 (E) Answer not known
 விடை தெரியவில்லை

121. Given $F_1 = 1, F_2 = 3, F_n = F_{n-1} + F_{n-2}$ then F_{10} is

$F_1 = 1, F_2 = 3$ மற்றும் $F_n = F_{n-1} + F_{n-2}$ எனக் கொடுக்கப்பட்டின் F_{10} ஆனது

- (A) 29 (B) 322
 (C) 199 ~~(D)~~ 123
 (E) Answer not known
 விடை தெரியவில்லை

122. (i) Diagonals of a rhombus always bisect each other.

சாய்சதுரத்தின் மூலைவிட்டங்கள் எப்போதும் இரு சமக் கூறிடும்.

(ii) Diagonals of a rhombus always cut at right angles.

சாய்சதுரத்தின் மூலைவிட்டங்கள் எப்போதும் செங்கோணத்தில் வெட்டிக் கொள்ளும்.

~~(A)~~ (i) and (ii) both are correct

(i) மற்றும் (ii) இரண்டும் சரி

(B) (i) is correct and (ii) is wrong

(i) சரி மற்றும் (ii) தவறு

(C) (i) is wrong and (ii) is correct

(i) தவறு மற்றும் (ii) சரி

(D) (i) and (ii) both are wrong

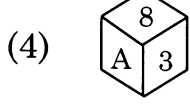
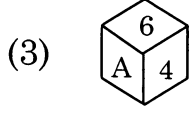
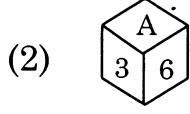
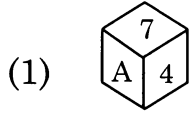
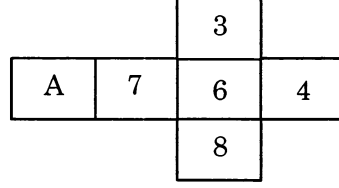
(i) மற்றும் (ii) இரண்டும் தவறு

(E) Answer not known

விடை தெரியவில்லை

123. On folding the given paper which of the following cube can not be formed?

கொடுக்கப்பட்ட காகிதத்தை மடித்தால் கீழ்க்கண்ட எந்த கனச்சதுரத்தை உருவாக்க முடியாது?



~~(A)~~ 1, 2, 3 and 4
1, 2, 3 மற்றும் 4

(B) 1, 2 and 4
1, 2 மற்றும் 4

(C) 1, 2 and 3
1, 2 மற்றும் 3

(D) 1, 3 and 4
1, 3 மற்றும் 4

(E) Answer not known
விடை தெரியவில்லை

124. Kamal can do a work in 15 days. Bimal is 50% more efficient than Kamal. The number of days Bimal will take to do the same work is

கமல் ஒரு வேலையை 15 நாட்களில் செய்து முடிப்பார். பிமல், கமலை விட 50% அதிக திறமை உடையவர் எனில், அதே வேலையை பிமல் எத்தனை நாட்களில் செய்து முடிப்பார்?

- (A) 10.5 days
10.5 நாட்கள்
- (B) 15 days
15 நாட்கள்
- (C) 12 days
12 நாட்கள்
- ~~(D) 10 days~~
10 நாட்கள்
- (E) Answer not known
விடை தெரியவில்லை

125. 5 boys or 3 girls can do a science project in 40 days. How long will it take for 15 boys and 6 girls to do the same project?

5 மாணவர்கள் அல்லது 3 மாணவிகள் ஒரு அறிவியல் திட்டச் செயலை 40 நாட்களில் முடிப்பார். 15 மாணவர்கள் மற்றும் 6 மாணவிகள் அதே திட்டச் செயலை முடிக்க எத்தனை நாட்களாகும்?

- (A) 12
- (B) ~~8~~
- (C) 10
- (D) 16
- (E) Answer not known
விடை தெரியவில்லை

126. The radius of a cylinder is one third of its height, then the total surface area of the cylinder is

ஒரு உருளையின் ஆரம் அதன் உயரத்தில் மூன்றில் ஒரு பங்கு எனில் அதன் மொத்தப் புறப் பரப்பு

~~(A)~~ $\frac{8\pi h^2}{9}$

(B) $\frac{9\pi h^2}{8}$

(C) $24\pi h^2$

(D) $\frac{56\pi h^2}{9}$

(E) Answer not known
விடை தெரியவில்லை

127. If a quarter of circular paper of diameter 28 cm is made into a cone, find the slant height and C.S.A of the cone

28 செ.மீ விட்டமுடைய ஒரு வட்டத்தின் கால் பகுதியை ஒரு கூம்பாக வளைத்தால், கூம்பின் சாயுயரம் மற்றும் வளை பரப்பைக் காண்க

~~(A)~~ 14 cm, 154 cm^2

14 செ.மீ, 154 செ.மீ^2

(B) 28 cm, 154 cm^2

28 செ.மீ, 154 செ.மீ^2

(C) 28 cm, 308 cm^2

28 செ.மீ, 308 செ.மீ^2

(D) 14 cm, 308 cm^2

14 செ.மீ, 308 செ.மீ^2

(E) Answer not known
விடை தெரியவில்லை

128. Find the compound interest for the data given below :

கீழே கொடுக்கப்பட்ட விவரங்களுக்குக் கூட்டு வட்டியைக் காண்க :

Principle = Rs. 5,000, $r = 4\%$ p.a., $n = 1\frac{1}{2}$ years, interest compounded half – yearly.

அசல் = ரூ. 5,000, ஆண்டு வட்டி வீதம் $r = 4\%$, $n = 1\frac{1}{2}$ ஆண்டுகள். அரையாண்டுக்கு ஒரு முறை வட்டி கணக்கிடப்படுகிறது.

- (A) Rs. 306.50
ரூ. 306.50
- (B) Rs. 310.50
ரூ. 310.50
- (C) Rs. 307
ரூ. 307
- (D) Rs. 306.04
ரூ. 306.04
- (E) Answer not known
விடை தெரியவில்லை

129. The bacteria in a culture grows by 5% in the first hour, decreases by 8% in the second hour and again increases by 10% in the third hour. Find the count of the bacteria at the end of 3 hours. If its initial count was 10,000.

ஒரு வகையான பாக்டீரியா, முதலாவது ஒரு மணி நேரத்தில் 5% வளர்ச்சியும், 2 வது ஒரு மணி நேரத்தில் 8% வளர்ச்சி குன்றியும், மூன்றாவது மணி நேரத்தில் 10% வளர்ச்சியும் அடைகிறது. தொடக்கத்தில் அதன் எண்ணிக்கை 10,000 ஆக இருந்தது எனில், மூன்று மணி நேரத்திற்குப் பிறகு அதன் எண்ணிக்கையைக் காண்க.

- (A) Rs. 10,626
ரூ. 10,626
- (B) Rs. 10,620
ரூ. 10,620
- (C) Rs. 10,660
ரூ. 10,660
- (D) Rs. 10,266
ரூ. 10,266
- (E) Answer not known
விடை தெரியவில்லை

130. A sum of Rs. 46,000 was lent out at simple interest and at the end of 1 year 9 months, the total amount was Rs. 52,440. Find the rate of interest per year

அசல் ரூ. 46,000 ஐ 1 ஆண்டு 9 மாதக் காலத்திற்குப் பிறகு தனி வட்டி மூலம் மொத்தத் தொகையாக ரூ.52,440 ஆக உயர்ந்தது எனில், வட்டி வீதத்தைக் காண்க

- (A) 6% ~~(B) 8%~~
(C) 10% (D) 4%
(E) Answer not known
விடை தெரியவில்லை

131. Sheela has paid simple interest on a certain sum for 4 years at 9.5% per annum is Rs. 21,280. Find the sum

ஷீலா என்பவர் ஒரு குறிப்பிட்ட அசலுக்கு 4 ஆண்டுகளுக்கு 9.5% வட்டி வீதத்தில் தனி வட்டியாக ரூ. 21,280 ஐச் செலுத்தினார் எனில், அசலைக் காண்க

- (A) Rs. 60,000 (B) Rs. 58,000
ரூ. 60,000 ரூ. 58,000
~~(C) Rs. 56,000~~ (D) Rs. 54,000
ரூ. 56,000 ரூ. 54,000
(E) Answer not known
விடை தெரியவில்லை

132. Simple interest on Rs. 1,000 at 10% per annum for 2 years is

ரூ. 1,000 க்கு 10% வட்டி வீதம் 2 ஆண்டுகளுக்குத் தனி வட்டி

- (A) Rs. 2,000 (B) Rs. 1,000
ரூ. 2,000 ரூ. 1,000
~~(C) Rs. 200~~ (D) Rs. 100
ரூ. 200 ரூ. 100
(E) Answer not known
விடை தெரியவில்லை

133. 60 workers can spin a bale of cotton in 7 days. In how many days will 42 workers spin it?

60 வேலையாட்கள் ஒரு பருத்தி நூல் உருண்டையை நூற்க 7 நாட்கள் தேவைப்படுகிறது. 42 வேலையாட்கள் அதே வேலையைச் செய்து முடிக்க எத்தனை நாட்கள் ஆகும்?

- (A) 13 days
13 நாட்கள்
- (B) 15 days
15 நாட்கள்
- (C) 10 days
10 நாட்கள்
- (D) 14 days
14 நாட்கள்
- (E) Answer not known
விடை தெரியவில்லை

134. A family cleans a house for Pongal celebration by dividing the work in the ratio 1 : 2 : 3. Express each portion of work as percentage

ஒரு குடும்பம் பொங்கல் கொண்டாட்டத்திற்காக, வீட்டைச் சுத்தம் செய்வதற்கு வேலையை 1 : 2 : 3 என்ற விகிதத்தில் பகிர்ந்து கொண்டனர் எனில், வேலையின் ஒவ்வொரு பகுதியையும் சதவீதமாக வெளிப்படுத்தவும்

- (A) 10%, 20%, 30%
- (B) 12%, 24%, 36%
- (C) $20\frac{2}{3}\%$, $41\frac{1}{3}\%$, 62%
- (D) $16\frac{2}{3}\%$, $33\frac{1}{3}\%$, 50%
- (E) Answer not known
விடை தெரியவில்லை

135. Find the LCM of the following $24x^2y^3z^4$, $8x^3y^2z^2$, $16xy^2z^3$

பின்வருவனவற்றிற்கு மீ.பொ.ம (LCM) காண்க $24x^2y^3z^4$, $8x^3y^2z^2$, $16xy^2z^3$

- (A) $8x^3y^3z^3$
- (B) $48x^3y^3z^3$
- (C) $48x^3y^3z^4$
- (D) $48x^2y^3z^4$
- (E) Answer not known
விடை தெரியவில்லை

136. Find the LCM of $8x^4y^2$, $48x^2y^4$

மீ.பொ.ம (LCM) காண்க $8x^4y^2$, $48x^2y^4$

(A) $6xy$

~~(B) $48x^4y^4$~~

(C) $96x^2y^2$

(D) $384x^6y^6$

(E) Answer not known

விடை தெரியவில்லை

137. The HCF of $x^2 + 4x - 12$ and $x^2 - 5x + 6$ is

$x^2 + 4x - 12$ மற்றும் $x^2 - 5x + 6$ ஆகியவற்றின் (மீ.பொ.கா.) மீப்பெரு பொது காரணி _____ ஆகும்.

~~(A) $x - 2$~~

(B) $x + 2$

(C) $x + 6$

(D) $x - 3$

(E) Answer not known

விடை தெரியவில்லை

138. A book seller has 175 English books, 245 science books and 385 mathematics books. He wants to sell the books in a box, subject wise in equal numbers, what will be the greatest number of the boxes required?

நூல் விற்பனையாளர் 175 ஆங்கில நூல்களையும் 245 அறிவியல் நூல்களையும் 385 கணித நூல்களையும் வைத்துள்ளார். ஒவ்வொரு பெட்டியிலும் பாடவாரியாகச் சம எண்ணிக்கையில் மூன்று பாட நூல்களையும் வைத்து விற்க விரும்புகிறார். அதிகபட்சமாக எத்தனை பெட்டிகள் தேவைப்படும்?

(A) 77

~~(B) 63~~

(C) 49

~~(D) 35~~

(E) Answer not known

விடை தெரியவில்லை

139. Simplify : $3\sqrt{75} + 5\sqrt{48} - \sqrt{243}$

சுருக்குக : $3\sqrt{75} + 5\sqrt{48} - \sqrt{243}$

- (A) $25\sqrt{5}$ (B) $15\sqrt{3}$
(C) $26\sqrt{3}$ (D) $26\sqrt{5}$
(E) Answer not known
விடை தெரியவில்லை

140. An item marked at Rs. 840 is sold for Rs. 714. What is the discount %?

குறித்த விலை ரூ. 840 உடைய ஒரு பொருள் ரூ. 714 க்கு விற்கப்பட்டது. அதன் தள்ளுபடி சதவீதம் என்ன?

- (A) 20% (B) 15%
(C) 10% (D) 5%
(E) Answer not known
விடை தெரியவில்லை

141. Tamil Nadu Urban Health Care project is implemented with the support of

தமிழ்நாடு நகர்ப்புற சுகாதாரத் திட்டம் _____ நாட்டு ஆதரவுடன் செயல்படுத்தப்படுகிறது.

- (A) Japan (B) China
ஜப்பான் சீனா
(C) France (D) America
பிரான்ஸ் அமெரிக்கா
(E) Answer not known
விடை தெரியவில்லை

142. The Human Development Index (HDI) does not take into account the following dimension in its calculation

மனிதவள மேம்பாட்டு குறியீடு (HDI) கணக்கில் பின்வரும் எந்தப் பரிமாணத்தை எடுத்துக் கொள்ளவில்லை

~~(A)~~ Gender Ratio
பாலின விகிதம்

(B) Health Level
உடல் நலம்

(C) Education Level
கல்வி

(D) Income Level
வருமானம்

(E) Answer not known
விடை தெரியவில்லை

143. In the first general election held in 1952, the number of women candidates who were elected was?

1952 இல் நடைபெற்ற முதல் பொதுத் தேர்தலில் வெற்றி பெற்ற பெண் வேட்பாளர்களின் எண்ணிக்கை யாது?

~~(A)~~ 22

(B) 33

(C) 2

(D) 222

(E) Answer not known
விடை தெரியவில்லை

144. Find the correct Assertion :

சரியான கூற்றினை கண்டுபிடி :

Assertion [A] : Coimbatore, Tiruppur and Erode region is called as the textile valley of Tamil Nadu.

கூற்று [A] : கோயம்புத்தூர், திருப்பூர் மற்றும் ஈரோடு மண்டலம் தமிழ்நாட்டின் ஜவுளி பள்ளத்தாக்கு என அழைக்கப்படுகிறது.

Reason [R] : They contribute a major share to the state economy through textiles.

காரணம் [R] : இவைகள் நெசவாலைகள் மூலம் நாட்டின் பொருளாதாரத்தில் முக்கிய பங்களிப்பை அளிக்கின்றன.

- (A) Both [A] and [R] are true and [R] explains [A]
கூற்று [A] மற்றும் காரணம் [R] இரண்டும் சரி; காரணம் [R], கூற்றுக்கான [A] சரியான விளக்கமாகும்
- (B) Both [A] and [R] are true but, [R] does not explain [A]
கூற்று [A] மற்றும் காரணம் [R] இரண்டும் சரி; ஆனால் காரணம் [R], கூற்றின் [A] சரியான விளக்கம் அல்ல
- (C) [A] is true but [R] is false
கூற்று [A] சரி; ஆனால் காரணம் [R] தவறு
- (D) [A] is false but [R] is true
கூற்று [A] தவறு; ஆனால் காரணம் [R] சரி
- (E) Answer not known
விடை தெரியவில்லை

145. In which year was the Tamil Nadu Manual workers Act passed?

தமிழ்நாடு உடலுழைப்புத் தொழிலாளர்கள் சட்டம் எந்த ஆண்டு நிறைவேற்றப்பட்டது?

- (A) 1982 (B) 1985
(C) 1992 (D) 2000
(E) Answer not known
விடை தெரியவில்லை

146. Which of the following is incorrectly paired?

பின்வருவனவற்றில் எது தவறாக இணைக்கப்பட்டுள்ளது?

- (i) TACTV – Tamil Nadu Authority Cable TV Corporation Ltd.
TACTV – தமிழ்நாடு ஆணையம் கேபிள் டிவி கார்ப்பரேஷன் லிமிடெட்.
- (ii) PACCS – Primary Agricultural Co–Operative Credit Societies.
PACCS – தொடக்க வேளாண்மை கூட்டுறவு கடன் சங்கங்கள்.
- (iii) VPRCs – Village Poverty Reduction Committees.
VPRCs – கிராம வறுமைக் குறைப்புக் குழுக்கள்.
- (iv) CSCs – Central Service Centres.
CSCs – மத்தியச் சேவை மையங்கள்.
- (A) (i) and (ii) (B) (ii) and (iii)
(i) மற்றும் (ii) (ii) மற்றும் (iii)
- (C) (iii) and (iv) (D) (i) and (iv)
(iii) மற்றும் (iv) (i) மற்றும் (iv)
- (E) Answer not known
விடை தெரியவில்லை

147. A social movement is generally oriented towards the purpose of

சமூக இயக்கத்தின் பொதுவான நோக்கம் என்பது

- (A) Social progress
சமூக வளர்ச்சி
- (B) Social change
சமூக மாற்றம்
- (C) Social development
சமூக மேம்பாடு
- (D) Cultural change
கலாச்சார மாற்றம்
- (E) Answer not known
விடை தெரியவில்லை

148. _____ refused remarriage and fought for an education, becoming an educationist for 35 years during the British Raj.

_____ மறுமணம் செய்துகொள்ள மறுத்தார், கல்விக்காகப் போராடினார். ஆங்கிலேயர் ஆட்சிக் காலத்தில், கல்வியாளராக உயர்ந்து, 35 ஆண்டுகள் சிறப்புடன் செயல்பட்டார்.

- (A) Dr. Muthulakshmi Reddy
டாக்டர். முத்துலட்சுமி ரெட்டி
- (B) Dr. S. Dharmambai
டாக்டர். S. தர்மம்பாய்
- (C) Ms. R. Lilavati
R. லீலாவதி
- (D) Ramabai Ranade
ரமா பாய் ரானடே
- (E) Answer not known
விடை தெரியவில்லை

149. _____ is a type of social movement that aims to gradually change or improve certain aspects of society such as education or health care.

_____ என்பது ஒரு வகை சமூக இயக்கமாகும். இது கல்வி, ஆரோக்கியம் போன்ற சமூக நிலைகளைப் படிப்படியாக மாற்றுவதையும் மேம்படுத்துவதையும் நோக்கமாகக் கொண்டுள்ளது.

- (A) Freedom Movement
சுதந்திர இயக்கம்
- (B) Reform Movement
சீர்திருத்த இயக்கம்
- (C) Cultural Movement
கலாச்சார இயக்கம்
- (D) Historical Movement
வரலாற்று இயக்கம்
- (E) Answer not known
விடை தெரியவில்லை

150. Which of the following is not a scheme for higher education under the Adi Dravidar Welfare Department of Tamil Nadu?

பின்வருவனவற்றுள் தமிழ்நாடு ஆதி திராவிடர் நலத்துறையின் கீழ் உயர் கல்விக்கான திட்டம் எது அல்ல?

- (A) Post Matric Scholarship
பள்ளி மேற்படிப்பு உதவித்தொகை
- (B) Ph. D. Scholarship
முனைவர் பட்டப்படிப்பு உதவித்தொகை
- (C) Post Doctoral Fellowship
முது முனைவர் உதவித்தொகை
- (D) Overseas Scholarship for Post graduate and Research
முதுகலை மற்றும் ஆராய்ச்சிக்கான வெளிநாட்டு உதவித்தொகை .
- (E) Answer not known
விடை தெரியவில்லை

151. Theme for National Science day 2020 is

2020ம் ஆண்டில் தேசிய அறிவியல் தினத்தின் கருப்பொருள் _____ ஆகும்.

- (A) People for science
மக்களுக்கான அறிவியல்
- (B) Women in science
அறிவியலில் பெண்கள்
- (C) Contribution of science for the development of the nation
நாட்டின் வளர்ச்சியில் அறிவியலின் பங்கு
- (D) Science and Technology for a sustainable future
நிலைத்த எதிர்காலத்திற்கு அறிவியல் மற்றும் தொழில் நுட்பம்
- (E) Answer not known
விடை தெரியவில்லை

152. The theory of use and disuse was given by

பயன்படுத்துதல் மற்றும் பயன்படுத்தாமை கோட்பாட்டை முன்மொழிந்தவர்

- (A) Stebbins
ஸ்டெப்பின்ஸ்
- ~~(B)~~ Lamarck
லெமார்க்
- (C) Aristotle
அரிஸ்டாட்டில்
- (D) Charles Darwin
சார்லஸ் டார்வின்
- (E) Answer not known
விடை தெரியவில்லை

153. Which among the following will improve scientific knowledge?

கீழ்க்கண்டவற்றில் விஞ்ஞான அறிவை வளர்ப்பது எது?

- ~~(A)~~ Observation
கவனித்தல்
- (B) Assumption
அனுமானம்
- (C) Superstition
மூடநம்பிக்கை
- (D) Intolerance
சகிப்புத்தன்மையின்மை
- (E) Answer not known
விடை தெரியவில்லை

154. The largest division of geological time is

புவியியல் கால அட்டவணையின் மிக பெரிய பிரிவு எது?

- (A) Eon
யுகம்
- (B) Era
சகாப்தம்
- (C) Period
காலம்
- (D) Mesozoic Era
மீசோசோயிக் காலம்
- (E) Answer not known
விடை தெரியவில்லை

155. Darwin, during his voyage in 1835 studied the Flora and Fauna of

டார்வின் தன்னுடைய 1835 ஆம் ஆண்டு பயணத்தில் இந்த தீவுகளிலுள்ள தாவர மற்றும் விலங்குகள் குறித்து ஆராய்ச்சி மேற்கொண்டார்.

- (A) Greenland
கிரீன்லாந்து
- (B) Channel Islands
சேனல் தீவுகள்
- (C) Galapagos Islands
கலபாகஸ் தீவுகள்
- (D) Queen Elizabeth Islands
ராணி எலிசபெத் தீவுகள்
- (E) Answer not known
விடை தெரியவில்லை

156. The site for Kreb's cycle is

கிரெப்ஸ் சுழற்சி நடைபெறும் பகுதி

- (A) Grana of Chloroplasts
பசங்கணிகத்தின் கிரானங்கள்
- ~~(B)~~ Matrix of Mitochondrian
மைட்டோகாண்ட்ரியத்தின் மேட்ரிக்ஸ்
- (C) Stroma of Chloroplast
பசங்கணிகத்தின் ஸ்ட்ரோமா
- (D) Inner Mitochondrial membrane
மைட்டோகாண்ட்ரியத்தின் உள் சவ்வு
- (E) Answer not known
விடை தெரியவில்லை

157. The chemical name of 2,4,5 T is

2,4,5 T என்ற களைக் கொல்லியின் இரசாயனப் பெயர் ————— ஆகும்.

- (A) 2,4-dinitro-5-dipropyl difluoro methyl benzene
2,4-டைநைட்ரோ-5-டைபுரோபைல் டை புளோரோ மீத்தைல் பென்சீன்
- ~~(B)~~ 2,4,5-trichloro phenoxy acetic acid
2,4,5-டிரைகுளோரோ ஃபீனாக்ஸி அசிடிக் அமிலம்
- (C) 2,4-dichloro, 5-Fluro phenoxy acetic acid
2,4-டைநைட்ரோ, 5-ஃபுளோரோ ஃபீனாக்ஸில் அசிடிக் அமிலம்
- (D) 2,4-dinitro-5-butylphenol
2,4-டைநைட்ரோ-5-பியூட்டைல் ஃபீனால்
- (E) Answer not known
விடை தெரியவில்லை

158. Sun is now in which of the following stages?

சூரியன், தற்போது, கீழ்க்கண்டவற்றுள், எந்த நிலையில் இருக்கிறது?

- (A) Main sequence star
முக்கிய வரிசை விண்மீன்
- (B) Red giant star
செம் பெரு விண்மீன்
- (C) White dwarf
வெண் குறுமீன்
- (D) Black hole
கருங்குழி
- (E) Answer not known
விடை தெரியவில்லை

159. "Arisa Pitha" a traditional sweet pan cake is associated with _____ community.

'அரிசு பிதா' ஒரு பாரம்பரிய பணியார வகை இனிப்பானது _____ இன மக்களோடு தொடர்புடையது.

- (A) Todas
தோடர்
- (B) Madigas
மடிகாஸ்
- (C) Pindaris
பிண்டாரி
- (D) Santhals
சாந்தல்
- (E) Answer not known
விடை தெரியவில்லை

160. Armand Duplantis the new world record holder in the pole vault at the world Athletics championship belongs to which country?

உலக தடகளப் போட்டியில் கோலுன்றி உயரம் தாண்டுதலில் உலக சாதனை படைத்துள்ள அர்மாண்ட் டூப்ளாண்டிஸ் எந்த நாட்டைச் சார்ந்தவர்?

- (A) Sweden
ஸ்வீடன்
- (B) Switzerland
ஸ்விட்சர்லாந்து
- (C) Scotland
ஸ்காட்லாந்து
- (D) San Marino
சான் மாரினோ
- (E) Answer not known
விடை தெரியவில்லை

161. Which is India's first home-built aircraft carrier?

இந்தியாவின் உள்நாட்டிலேயே தயாரிக்கப்பட்ட முதல் விமானம் தாங்கிக் கப்பல் எது?

- (A) INS Godavari
INS கோதாவரி
- (B) INS Vikranth
INS விக்ராந்த்
- (C) INS Talwar
INS தல்வார்
- (D) INS Brahmaputra
INS பிரம்மபுத்ரா
- (E) Answer not known
விடை தெரியவில்லை

162. According to the research study published in Journal Environmental Science and Technology rainwater is no longer potable as it is contaminated with forever chemicals. Find out the forever chemical from the following.

சுற்றுச்சூழல் அறிவியல் மற்றும் தொழில்நுட்ப இதழ் வெளியிட்ட ஆராய்ச்சி ஆய்வின்படி, மழைநீர் எப்போதும் ரசாயனங்களால் மாசுபட்டுள்ளதால் இனி குடிக்க முடியாது. பின்வருவனவற்றுள் எப்பொழுதும் மாசுபடுத்தும் ரசாயனத்தை கண்டுபிடி.

- ~~(A)~~ Polyfluoroalkyl substances
பாலிஃப்ளூரோ அல்கைல் பொருட்கள்
- (B) Polyamines
பாலிஅமைன் பொருட்கள்
- (C) Alkyl substances
அல்கைல் பொருட்கள்
- (D) Polyhydroxy butyrate substances
பாலிஹைட்ராக்சி பியூட்டரேட்டாடு பொருட்கள்
- (E) Answer not known
விடை தெரியவில்லை

163. By which constitutional amendment did Delhi get the Legislative Assembly?

எந்த அரசியலமைப்பு சாசன திருத்தம் டெல்லிக்கு சட்டசபையைப் பெற்றுத் தந்தது?

- (A) 67th
67-வது
- ~~(B)~~ 69th
69-வது
- (C) 71st
71-வது
- (D) 79th
79-வது
- (E) Answer not known
விடை தெரியவில்லை

164. According to the announcement of U.N. assembly, year of light and light based technology is

ஐ.நா. அவையினது அறிவிப்பின்படி, ஒளி மற்றும் ஒளி அடிப்படையிலான தொழில் நுட்பங்களுக்கான ஆண்டு

- (A) 2016 (B) 2020
(C) 2018 ~~(D) 2015~~
(E) Answer not known
விடை தெரியவில்லை

165. "National Lokmanya Tilak Award" for the year 2022 was awarded to

2022-ஆம் ஆண்டிற்கான "தேசிய லோகமான்ய திலக் விருதினைப்" பெற்றவர்

- ~~(A)~~ Tessy Thomas
டெஸி தாமஸ்
(B) Sunderlal Bahuguna
சுந்தர்லால் பஹீகுனா
(C) Andrew Pollard
ஆன்ட்ரூ பொல்லார்டு
(D) Suprabhat Mukerjee
சுப்ரபாத் முகர்ஜி
(E) Answer not known
விடை தெரியவில்லை

166. An example of Conventional energy resource is

மரபு சார்ந்த எரிசக்தி வளத்திற்கு ஓர் உதாரணம்

- (A) Geothermal energy
புவி வெப்ப ஆற்றல்
- (B) OTEC energy
OTEC ஆற்றல்
- (C) Dendrothermal energy
மரவெப்ப ஆற்றல்
- ~~(D)~~ Coal energy
நிலக்கரி ஆற்றல்
- (E) Answer not known
விடை தெரியவில்லை

167. The recent revelation of the study conducted by oxford Economics marked several Indian cities in top ten categories of fastest growing cities of the world. In India, the sixth fastest growing city is

ஆக்ஸ்போர்டு பொருளாதாரம் நடத்திய அண்மைக்கால ஆய்வுகளிலிருந்து உலகின் மிக வேகமாக வளர்ந்து வரும் மாநகரங்களில் இந்திய மாநகரங்கள் முதல் பத்து இடங்களைப் பிடித்துள்ளன. இந்தியாவில் மிக வேகமாக வளர்ந்து வரும் மாநகரங்களில் வெறு இடத்தை பிடித்துள்ள நகரம்

- (A) Thiruchirappalli
திருச்சிராப்பள்ளி
- ~~(B)~~ Tiruppur
திருப்பூர்
- (C) Chennai
சென்னை
- (D) Madurai
மதுரை
- (E) Answer not known
விடை தெரியவில்லை

168. Who divided India into six Zoo-geographic regions?

இந்தியாவை ஆறு உயிரின புவியியல் மண்டலங்களாக பிரித்தவர் யார்?

(A) Champion. H.G.

சேம்பியன் H.G.

(B) Mathur. V.P.

மாத்தூர் V.P.

(C) Negi. S.S.

நெகி S.S.

~~(D) Prater. S.H.~~

பிரேட்டர் S.H.

(E) Answer not known

விடை தெரியவில்லை

169. Which easterly river of the peninsular India built fertile bird foot delta?

தீபகற்ப இந்தியாவில் கிழக்கே பாயும் நதிகளில் வளமான பறவை பாத அமைப்பு கொண்ட டெல்டாவை உருவாக்கும் நதி எது?

(A) The Godavari

கோதாவரி

(B) The Kaveri

காவேரி

~~(C) The Krishna~~

கிருஷ்ணா

(D) The Pennar

பெண்ணாறு

(E) Answer not known

விடை தெரியவில்லை

170. Which of the following is the relict of the world's oldest mountain?

பின்வரும் மழைதொடரில் எது உலகில் பழமையான மலைகளின் பிரதிபலிப்பு?

- (A) Satpura Range
சாத்தபுரா மலைத்தொடர்
- ~~(B) Aravali Range~~
ஆரவல்லி மலைத்தொடர்
- (C) Vindhya Range
விந்தியா மலைத்தொடர்
- (D) Sahyadris
சாஹ்ஹியாத்திரிஸ்
- (E) Answer not known
விடை தெரியவில்லை

171. Who was the Author of Book "Indo-Sumerian Seals Deciphered"?

"The Indo-Sumerian Seals Deciphered" என்ற நூலின் ஆசிரியர் யார்?

- (A) Sir John Marshall
சர் ஜான் மார்ஷல்
- (B) Dr. A.P. Agarwal
முனைவர் A.P. அகர்வால்
- (C) Robert H. Brunswig
இராபர்ட் H. பிரன்ஸ்விக்
- ~~(D) Laurence Waddell~~
லாரன்ஸ் வாடல்
- (E) Answer not known
விடை தெரியவில்லை

172. Which of the following statements is True regarding Indian states.

கீழே குறிப்பிடப்பட்டுள்ள இந்திய மாநிலங்களை பற்றி குறிப்புகளில் சரியானது எது?

(i) Bombay and Gujarat were separated in 1960

பாம்பேயும் குஜராத்தும் 1960ல் பிரிக்கப்பட்டது

(ii) Janagath was ruled by a Hindu King

ஜானாகத் இந்து அரசர்களால் ஆளப்பட்டது

(iii) Tara Singh fought for Haryana

தாராசிங் ஹரியானாவிற்காக போராடினார்

(iv) Sikkim became the 22nd state of the union

சிக்கிம் இந்தியாவின் 22வது மாநிலமாகியது

(A) (i) and (iii) true (ii) and (iv) false

(i) மற்றும் (iii) சரி (ii) மற்றும் (iv) தவறு

(B) (i) and (ii) true (iii) and (iv) false

(i) மற்றும் (ii) சரி (iii) மற்றும் (iv) தவறு

~~(C)~~ (i) and (iv) true (ii) and (iii) false

(i) மற்றும் (iv) சரி (ii) மற்றும் (iii) தவறு

(D) (i) and (iv) false (ii) and (iii) true

(i) மற்றும் (iv) தவறு (ii) மற்றும் (iii) சரி

(E) Answer not known

விடை தெரியவில்லை

173. Harrappan deals how the picture of
ஹரப்பா முத்திரைகளில் காணப்படும் முத்திரைகள்

1. Rhinoceroses
நீர் யானைகள்

2. Elephants
யானைகள்

3. Tigers
புலிகள்

4. Camel
ஒட்டகம்

(A) 1 only
1 மட்டும்

(B) 1, 2 only
1, 2 மட்டும்

(C) 1, 2, 3 only
1, 2, 3 மட்டும்

~~(D)~~ 1, 2, 3, 4
1, 2, 3, 4

(E) Answer not known
விடை தெரியவில்லை

174. Which one of the following is not correct about Guru Nanak?

கீழ்க் குறிப்பிடப்படுபவற்றில் குருநானக் குறித்த தவறான ஒன்றைத் தேர்வு செய்க.

- (A) Nanak laid emphasis on the unity of God
குருநானக் ஒருவனே தேவன் என்ற கருத்துக்கு முக்கியத்துவம் கொடுத்தார்
- ~~(B)~~ Nanak believed in Vedas and Quran
குருநானக் குரான் மீதும் வேதங்கள் மீதும் நம்பிக்கை வைத்திருந்தார்
- (C) Nanak believed in the Doctrine of Karma
குருநானக் கர்மாவை நம்பினார்
- (D) Nanak attacked caste system
குருநானக் சாதி முறையை எதிர்த்தார்
- (E) Answer not known
விடை தெரியவில்லை

175. The objective of the Article 15 of the Indian Constitution is

இந்திய அரசியலமைப்புச் சட்டத்தின் 15-வது சரத்தின் நோக்கம்

- ~~(A)~~ The state shall not discriminate against any citizen on grounds of race, caste, sex, place of birth etc.
இனம், சாதி, பால், பிறந்த இடம், போன்றவற்றின் அடிப்படையில் எந்த ஒரு குடிமகனுக்கு எதிராகவும் அரசு பாகுபாடு காட்டக்கூடாது
- (B) Beggary is prohibited
பிச்சை எடுத்தல் தடை செய்யப்படுகிறது
- (C) Prohibition of children in factories below the age of 14 years
பதினான்கு வயதிற்குக் கீழ் உள்ள சிறுவர்களைத் தொழிற்சாலைகளில் பணியமர்த்துதல் தடை செய்யப்படுகிறது
- (D) Abolition of untouchability
தீண்டாமை தடை செய்யப்படுகிறது
- (E) Answer not known
விடை தெரியவில்லை

176. Which among the following inscriptions mentioned that gold was brought from India and used for decorative purpose?

பின்வருவனவற்றில் எந்தக் கல்வெட்டில் தங்கம் இந்தியாவிலிருந்து கொண்டுவரப்பட்டு அலங்காரத்திற்காகப் பயன்படுத்தப்பட்டது எனக் குறிப்பிடுகிறது ?

- (A) Rabatak inscription
ராபாடக் கல்வெட்டு
- (B) Hathigumpha Inscription
ஹதிசும்பா கல்வெட்டு
- (C) Halmidi Inscription
ஹல்மிடி கல்வெட்டு
- (D) Chaldean Inscription
சால்டியன் கல்வெட்டு
- (E) Answer not known
விடை தெரியவில்லை

177. A Man died without a successor, then all his property should be utilized in the development of schools and colleges was ordered by

ஒருவர் வாரிசு இல்லாமல் இறந்துவிட்டால் அவருடைய சொத்துக்கள் அனைத்தையும் பள்ளி, கல்லூரிகளின் வளர்ச்சிக்கு பயன்படுத்த வேண்டும் என்று _____ உத்தரவிட்டார்.

- (A) Akbar
அக்பர்
- (B) Humayun
ஹுமாயூன்
- (C) Jahangir
ஜஹாங்கீர்
- (D) Aurangzeb
ஒளரங்கசீப்
- (E) Answer not known
விடை தெரியவில்லை

178. Who introduced the idea of "Sulh-i-kul" which means universal peace?

உலக அமைதியைக் குறிக்கும் சுல்-ஐ-குல் என்ற கருத்தை அறிமுகப்படுத்தியவர்?

- (A) Akbar
அக்பர்
- (B) Sada shiva Rao
சதாசிவராவ்
- (C) Rafi-ud-Daullat
ரஃபி-உத்-தௌலத்
- (D) Shivaji
சிவாஜி
- (E) Answer not known
விடை தெரியவில்லை

179. As per the Human Development Report of 2021-2022, India's HDI was _____ and ranked _____.

2021-2022 -ஆம் ஆண்டின் மனித முன்னேற்ற அறிக்கையின் படி இந்தியாவின் மனித முன்னேற்ற குறியீடு _____ மற்றும் அதன் தரவரிசை _____ ஆகும்.

- (A) 0.633 and 132
0.633 மற்றும் 132
- (B) 0.678 and 123
0.678 மற்றும் 123
- (C) 0.633 and 123
0.633 மற்றும் 123
- (D) 0.623 and 132
0.623 மற்றும் 132
- (E) Answer not known
விடை தெரியவில்லை

180. MGNREGS seeks to provide at least _____ days of guaranteed wage employment in a financial year to at least _____ members of every rural household.

MGNREGS - திட்டத்தின்படி கிராமப்புறங்களில் உள்ள ஒவ்வொரு குடும்பத்திற்கும் ஒரு நிதியாண்டிற்கு _____ நாட்கள் வேலையளிப்பு, குடும்பத்தில் குறைந்தபட்சம் _____ உறுப்பினர்/களுக்கு உத்தரவாரம் அளிக்கப்படுகிறது.

- (A) 100 Days, 2 members
100 நாட்கள், 2 உறுப்பினர்கள்
- (B) 150 Days, 2 members
150 நாட்கள், 2 உறுப்பினர்கள்
- (C) 150 Days, 1 member
150 நாட்கள், 1 உறுப்பினர்
- ~~(D)~~ 100 Days, 1 member
100 நாட்கள், 1 உறுப்பினர்
- (E) Answer not known
விடை தெரியவில்லை

181. The Seventh Five year plan was mainly focused on

ஏழாவது ஐந்தாண்டுத் திட்டத்தில் எதில் சிறப்புக் கவனம் செலுத்தப்பட்டது?

- (A) The Development of village and small scale Industries.
கிராம மற்றும் சிறிய அளவிலான தொழில்களின் வளர்ச்சி
- ~~(B)~~ Food, work and Productivity.
உணவு, வேலை மற்றும் உற்பத்தித்திறன்
- (C) Health and Family planning.
சுகாதாரம் மற்றும் குடும்ப கட்டுப்பாடு
- (D) Economic reforms and Liberalisation.
பொருளாதார சீர்திருத்தங்கள் மற்றும் தாராளமயமாக்கல்
- (E) Answer not known
விடை தெரியவில்லை

182. The Eighth Finance commission introduced a new formula for distribution of the income tax among the states as

8வது நிதிக் குழு, மாநிலங்களுக்கிடையே வருமான வரியை பகிர்ந்து கொள்ள புதிய விதியினை அறிமுகப்படுத்தியது.

(i) 10 Per cent distributed on the basis of collection of income Tax

10 சதவீதம் வருமான வரி வசூலிக்கும் அடிப்படையிலும்

(ii) 90 Per cent distributed on the basis of population and per capita income.

90 சதவீதம் மக்கள் தொகை மற்றும் தனி நபர் வருமான அடிப்படையிலும்

Select the correct answer by using the codes given below:

சரியான விடையை குறியீடுகளைப் பயன்படுத்தி தெரிவு செய்க.

(A) (i) Only

(i) மட்டும்

(B) (ii) Only

(ii) மட்டும்

~~(C)~~ Both (i) and (ii)

(i) மற்றும் (ii) இரண்டுமே

(D) None of these above

மேற்கூறிய எதுவுமில்லை

(E) Answer not known

விடை தெரியவில்லை

183. Tax revenue of the Central Government consists of

மத்திய அரசின் வரி வருவாய் இதில் அடங்கும் :

(i) Individual Income taxes

தனிநபர் வருமான வரி

(ii) Corporate tax

நிறுவனங்களின் வருவாய் மீதான வரிகள்

(iii) Commodity taxes or taxes on goods and services

சரக்கு வரிகள் அல்லது பொருட்கள் மற்றும் சேவைகள் மீதான வரிகள்

(A) (i) Only

(i) மட்டும்

(B) (i) and (iii) Only

(i) மற்றும் (iii) மட்டும்

(C) (i) and (ii) Only

(i) மற்றும் (ii) மட்டும்

~~(D)~~ (i), (ii) and (iii) Only

(i), (ii) மற்றும் (iii) மட்டும்

(E) Answer not known

விடை தெரியவில்லை

184. On the basis of the recommendations of the Ford Foundation, the Government of India introduced IADP in connection with Green Revolution in 1960 in Seven districts were selected from 7 States out of the following 4 States. Which state wasn't selected for rice Production?

'ஃபோர்டு' அறக்கட்டளையின் பரிந்துரைகளின் அடிப்படையில், இந்திய அரசாங்கம் 1960-ல் பசுமைப் புரட்சியின் தொடர்பாக IADP-யை அறிமுகப்படுத்தி, 7 மாநிலங்களிலிருந்து 7 மாவட்டங்களை தேர்ந்தெடுத்தது. அதன்படி கீழ்க்கண்ட 4 மாநிலங்களுல் எந்த மாநிலம் அரிசி உற்பத்திக்குத் தேர்ந்தெடுக்கப்படவில்லை?

- (A) Tamil Nadu
தமிழ்நாடு
- (B) Uttar Pradesh
உத்தரப்பிரதேசம்
- (C) Andhra Pradesh
ஆந்திரப்பிரதேசம்
- (D) Madhya Pradesh
மத்தியப்பிரதேசம்
- (E) Answer not known
விடை தெரியவில்லை

185. Assertion [A] : Disguised unemployment Prevails in India
கூற்று [A] : இந்தியாவில் மறைமுக வேலையின்மை நிலவுகிறது
Reason [R] : Marginal Productivity of disguised unemployed labour is Zero.
காரணம் [R] : மறைமுக வேலையின்மையில் தொழிலாளர்களின் இறுதிநிலை உற்பத்தித்திறன் பூஜ்யம் ஆகும்.

- ~~(A)~~ Both [A] and [R] are Correct
கூற்று [A] மற்றும் காரணம் [R] இரண்டும் சரி
(B) Both [A] and [R] are incorrect
கூற்று [A] மற்றும் காரணம் [R] இரண்டும் தவறு
(C) [A] is correct; [R] is incorrect
கூற்று [A] சரி; காரணம் [R] தவறு
(D) [A] is incorrect; [R] is correct
கூற்று [A] தவறு, காரணம் [R] சரி
(E) Answer not known
விடை தெரியவில்லை

186. Consider the following statements :

கீழ்க்கண்ட வாக்கியங்களை உற்று நோக்கவும் :

(1) Ombudsman is a government official who investigates citizens complaints against the high government functionaries

ஆம்புட்ஸ்மேன் என்பவர் அரசின் உயரதிகாரிகளுக்கு எதிரான பொதுமக்களின் புகார்களை விசாரிக்கும் அரசாங்க அதிகாரி ஆவார்.

(2) The Central Vigilance Commission (CVC) is designed to inquire into allegations by administrative officials of the State Government as well as Union Government.

மத்திய மற்றும் மாநில அரசுகளின் நிர்வாக அதிகாரிகளுக்கெதிரான புகார்களை விசாரிப்பதற்காக மத்திய கண்காணிப்பு ஆணையம் ஏற்படுத்தப்பட்டது.

Which of the statement given above is /are correct?

மேற்குறிப்பிட்டவற்றில் எந்த வாக்கியம் / வாக்கியங்கள் சரியானவை?

~~(A)~~ 1 only

1 மட்டும்

(B) 2 only

2 மட்டும்

(C) Both 1 and 2

1 மற்றும் 2

(D) Neither 1 nor 2

1-ம் அல்ல, 2-ம் அல்ல

(E) Answer not known

விடை தெரியவில்லை

187. Match the following :

கீழ்க்காண்பவற்றைப் பொருத்துக :

Law சட்டம்	Year ஆண்டு
(a) Preventive Detention Act தடுப்புக் காவல் சட்டம்	1. 1980 1980
(b) National Security Act தேசப் பாதுகாப்புச் சட்டம்	2. 2002 2002
(c) Prevention of Terrorism Act தீவிரவாதத் தடுப்புச் சட்டம்	3. 1971 1971
(d) Maintenance of Internal Security Act உள்நாட்டுப் பாதுகாப்புச் சட்டம்	4. 1950 1950

- (a) (b) (c) (d)
- ~~(A)~~ 4 1 2 3
- (B) 1 3 2 4
- (C) 3 2 1 4
- (D) 2 1 4 3
- (E) Answer not known
விடை தெரியவில்லை

188. Match the following
கீழ்க்காண்பவற்றைப் பொருத்துக :

Subject பொருள்	Related Article தொடர்பான சட்ட உறுப்பு
(a) Adequate Means of Livelihood போதுமான வாழ்வாதாரம்	1. Article-38 சட்ட உறுப்பு-38
(b) Decent Standard of Life கண்ணியமான தர வாழ்வு	2. Article-41 சட்ட உறுப்பு-41
(c) Report to Work பணியுரிமை	3. Article-43 சட்ட உறுப்பு-43
(d) People's Welfare மக்கள் நலன்	4. Article-39 சட்ட உறுப்பு-39

(a)	(b)	(c)	(d)
(A) 3	2	1	4
(B) 2	3	4	1
(C) 4	3	2	1
(D) 3	4	1	2

(E) Answer not known
விடை தெரியவில்லை

189. Consider the following Statements and find the incorrect statements :

கீழ்க்கண்ட கூற்றுக்களைக் கருதவும், அதில் தவறான கூற்றைக் கண்டறியவும் :

The Rationale of Right to Information Implies.

தகவல் அறியும் உரிமைச்சட்டம் குறிக்கும் அறிவார்ந்த தன்மையானது

(1) Governance and Development

நல்லாட்சி மற்றும் மேம்பாடு

(2) Ensuring official Secrecy

அலுவலர் ரகசியத்தை உறுதிப்படுத்துவது

(3) Transparency and Accountability

வெளிப்படைத் தன்மை மற்றும் பொறுப்புடமை

(4) Prevention of Corruption

ஊழலைத் தடுத்தல்

(A) (1) and (4) only

(1) மற்றும் (4) மட்டும்

(B) (1) and (2) only

(1) மற்றும் (2) மட்டும்

~~(C)~~ (2) only

(2) மட்டும்

(D) (2) and (3) only

(2) மற்றும் (3) மட்டும்

(E) Answer not known

விடை தெரியவில்லை

190. Match the following :

சரியாக பொருத்தி, விடையை தேர்ந்தெடுக்கவும்.

Amendment அரசமைப்பு திருத்தல்சட்டம் எண்	Subject கூற்று
(a) 53 53	1. Statehood for Goa கோவா மாநில தகுதிநிலை
(b) 56 56	2. Statehood for Sikkim சிக்கிம் மாநில தகுதிநிலை
(c) 55 55	3. Statehood for Mizoram மிஸோராம் மாநில தகுதிநிலை
(d) 36 36	4. Statehood for Arunachal Pradesh அருணாசல பிரதேசம் மாநில தகுதிநிலை

Choose the correct option :

- (a) (b) (c) (d)
~~(A)~~ 3 1 4 2
(B) 1 2 3 4
(C) 4 3 1 2
(D) 3 1 2 4
(E) Answer not known
விடை தெரியவில்லை

191. The Nature of "Socialist Principles" embodied in the constitution of India is based on the

இந்திய அரசியலமைப்பில் பொதிந்துள்ள "சோசலிசக் கோட்பாட்டின்" தன்மையானது,

(1) Influence of socialist Ideas on state activity

அரசு நடவடிக்கைகளில் சோசலிசக் கருத்துக்களின் தாக்கம்

(2) Aims at establishing a Democratic socialist state

மக்களாட்சிச் சோசலிச அரசு நிறுவுவதை நோக்கமாகக் கொண்டது

(3) Collective socialist state pattern of Eastern Europe

கிழக்கு ஐரோப்பியக் கூட்டுச் சோசலிச முறையைப் போன்றது

(4) Influence of Complete Marxism

முழுமையான மார்க்சியத்தின் தாக்கம்

(A) (1) and (3) only Correct

(1) மற்றும் (3) ஆகியன மட்டும் சரி

(B) (3) and (2) only Correct

(3) மற்றும் (2) ஆகியன மட்டும் சரி

(C) (4) and (1) only Correct

(4) மற்றும் (1) ஆகியன மட்டும் சரி

~~(D)~~ (1) and (2) only Correct

(1) மற்றும் (2) ஆகியன மட்டும் சரி

(E) Answer not known

விடை தெரியவில்லை

192. The Preamble and the Directive Principles of state policy of the constitution of India comprises the Ideology of

இந்திய அரசமைப்பின் முகப்புரை மற்றும் அரசு வழிகாட்டு நெறிமுறைகள் உள்ளடக்கிய சித்தாந்தமானது

- (A) Egalitarianism
சமத்துவவாதம்
- (B) Utilitarianism
பயன்பாட்டுவாதம்
- (C) Liberalism
தாராளவாதம்
- (D) Communism
பொதுவுடமைவாதம்
- (E) Answer not known
விடை தெரியவில்லை

193. Which of the following come under the purview of Independent Judiciary?

பின்வருவனவற்றில் எது/எவை சுதந்திரமான நீதி துறையின் பார்வைக்கு உட்பட்டது?

(i) Judges have Security of services and salaries

நீதிபதிகள் பாதுகாப்பாகப் பணியாற்றுதல் மற்றும் ஊதியம் பெறுதல்

(ii) The Judges are appointed by the president based on merit

நீதிபதிகள் குடியரசுத் தலைவரால் தகுதியின் அடிப்படையில் நியமிக்கப்படுதல்

(iii) The salaries and allowances of the Judges are charged upon the consolidated fund of India

நீதிபதிகளுக்கான ஊதியம் மற்றும் உதவி தொகைகள் இந்தியாவின் தொகுப்பு நிதியிலிருந்து கொடுக்கப்படுதல்

(A) (i) only

(i) மட்டும்

(B) (i) and (ii) only

(i) மற்றும் (ii) மட்டும்

(C) (ii) and (iii) only

(ii) மற்றும் (iii) மட்டும்

~~(D)~~ (i), (ii) and (iii)

(i), (ii) மற்றும் (iii) ஆகியவை

(E) Answer not known

விடை தெரியவில்லை

194. Regarding the changes of venue of the first session of the Indian National Congress from Poona to Bombay, which of the following statements is true.

இந்திய தேசிய காங்கிரஸின் முதல் மாநாடு பூனாவிலிருந்து பம்பாய்க்கு மாற்றப்பட்டது தொடர்பாக பின்வரும் காரணங்களில் சரியானது எது?

- ~~(A)~~ Poona was affected by the outbreak of Cholera
பூனா காலரா நோயினால் பாதிக்கப்பட்டிருந்து
- (B) Bombay has necessary funds
பம்பாய் தேவையான நிதியுதவியளித்தது
- (C) Bombay a thickly populated region
பம்பாய், மக்கள் தொகை அதிகமுள்ள பகுதியாக இருந்தது
- (D) The British government suggested the venue
பிரிட்டிஷ் அரசாங்கத்தினரால், அறிவுறுத்தப்பட்டது
- (E) Answer not known
விடை தெரியவில்லை

195. Consider the following events :

In 1885, Indian National Congress was established with the objectives

கீழே கூறப்பட்டுள்ளவற்றை கவனிக்கவும் :

1885ம் ஆண்டு இந்திய தேசிய காங்கிரஸ் சில குறிக்கோளுடன் ஏற்படுத்தப்பட்டது.

(1) To Promote Indian Nationalism

இந்திய தேசியத்தை பரப்புதல்

(2) To establish a closer relation between Indian and England

இந்தியாவுக்கும் இங்கிலாந்திற்கும் இடையே நெருங்கின தொடர்பை ஏற்படுத்திக் கொள்ளுதல்

(3) To remove unjust and harmful laws.

நேர்மறையான, துன்புறத்தக்கூடிய சட்டத்தை நீக்குதல்

(4) To remove the discontent among the educated classes

கல்வி கற்ற மக்களிடையே அதிருப்தியைக் களைதல்

Which of the following is the correct chronological sequence of the above events?

கீழே கூறப்பட்டுள்ள நிகழ்வுகளின் கால வரிசையில் எவை சரியானவை?

~~(A)~~ 1-2-3-4

(B) 2-3-4-1

(C) 3-1-2-4

(D) 4-3-1-2

(E) Answer not known

விடை தெரியவில்லை

196. Choose the right matches among the following types :

பின்வருவனவற்றில் சரியான பொருத்தத்தைத் தேர்தெடுக்கவும் :

- | | | |
|--|---|--|
| (1) Nana Sahib
நானா சாகீப் | – | General Henry Havelock
ஜெனரல் ஹென்ரி ஹேவ்லாக் |
| (2) Rani Lakshmi Bai
ராணி லட்சுமிபாய் | – | Sir Huge Rose
சர் ஹீக் ரோஸ் |
| (3) Tantia Tope
தாந்தியா தோப்பே | – | General William
ஜெனரல் வில்லியம் |
| (4) Kunwar Singh
குன்வர் சிங் | – | General Acton
ஜெனரல் ஆக்டன் |

(A) 1 and 3 are correct
1 மற்றும் 3 சரி

~~(B)~~ 1 and 2 are correct
1 மற்றும் 2 சரி

(C) 1 and 4 are correct
1 மற்றும் 4 சரி

(D) 2 and 4 are correct
2 மற்றும் 4 சரி

(E) Answer not known
விடை தெரியவில்லை

197. The newspaper "Al Hilal" which propagated the rationalist and nationalist ideals was started in 1912 by

பகுத்தறிவு மற்றும் தேசிய சிந்தனைகளை பரப்புரை செய்ய 1912 -ம் ஆண்டு 'அல் ஹிலால்' பத்திரிக்கையை ஆரம்பித்தவர்

- (A) M.A. Jinnah
M.A. ஜின்னா
- (B) Moulana Mohamed Ali
மௌலானா முகமது அலி
- (C) Sir Syed Ahmed Khan
சர் சையது அஹமது கான்
- ~~(D)~~ Moulana Abul Kalam Azad
மௌலானா அபுல் கலாம் ஆசாத்
- (E) Answer not known
விடை தெரியவில்லை

198. Rast Goftar was an Anglo Gujarati newspaper operating in Bombay that was started in A.D. 1854 by Dadabhai Naorgoji. Rast Goftar Means:

"ராஸ்ட் கோப்தார்" என்பது பம்பாயில் இயங்கிய ஓர் ஆங்கிலேய - குஜராத்தி செய்தித்தாள் இது தாதாபாய் நௌரோஜியால் கி.பி. 1854 ல் தொடங்கப்பட்டது. "ராஸ்ட் கோப்தார்" என்பதன் பொருள்

- ~~(A)~~ Truth Teller
உண்மையைக் கூறுபவர்
- (B) Truth Seeker
உண்மையை தேடுபவர்
- (C) The Factful
நடப்பு
- (D) Realistic Teller
மெய்மையைக் கூறுபவர்
- (E) Answer not known
விடை தெரியவில்லை

199. Who among the following described Amravati session of the Indian National Congress held in 1897 as a 'three days tamasha'?

பின்வருபவர்களில் எவர் 1897 ல் நடந்த இந்திய தேசிய காங்கிரஸின் அமராவதி கூட்டத்தை 'மூன்று நாட்கள் தமாஷா' என்று வர்ணனை செய்தவர்?

- (A) Surendranath Banerjee
சுரேந்திரநாத் பானர்ஜி
- (B) Aurobindo Ghosh
அரவிந்தோ கோஷ்
- ~~(C)~~ Ashwini Kumar Dutt
அஸ்வினிகுமார் தத்
- (D) Satis Mukherjee
சதீஷ் முகர்ஜி
- (E) Answer not known
விடை தெரியவில்லை

200. All – Bengal Civil Disobedience Council was formed by

அனைத்து வங்காள சட்ட மறுப்பு குழுவை உருவாக்கியவர் _____ ஆவார்.

- (A) Surya sen
சூர்யா சென்
- (B) Premananda Dutta
பிரேமனந்தா தத்தா
- (C) Ambika Chakrabarty
அம்பிகா சக்ரபார்த்தி
- ~~(D)~~ J.M. Sengupta
ஜ.மோ. சென்குப்தா
- (E) Answer not known
விடை தெரியவில்லை

